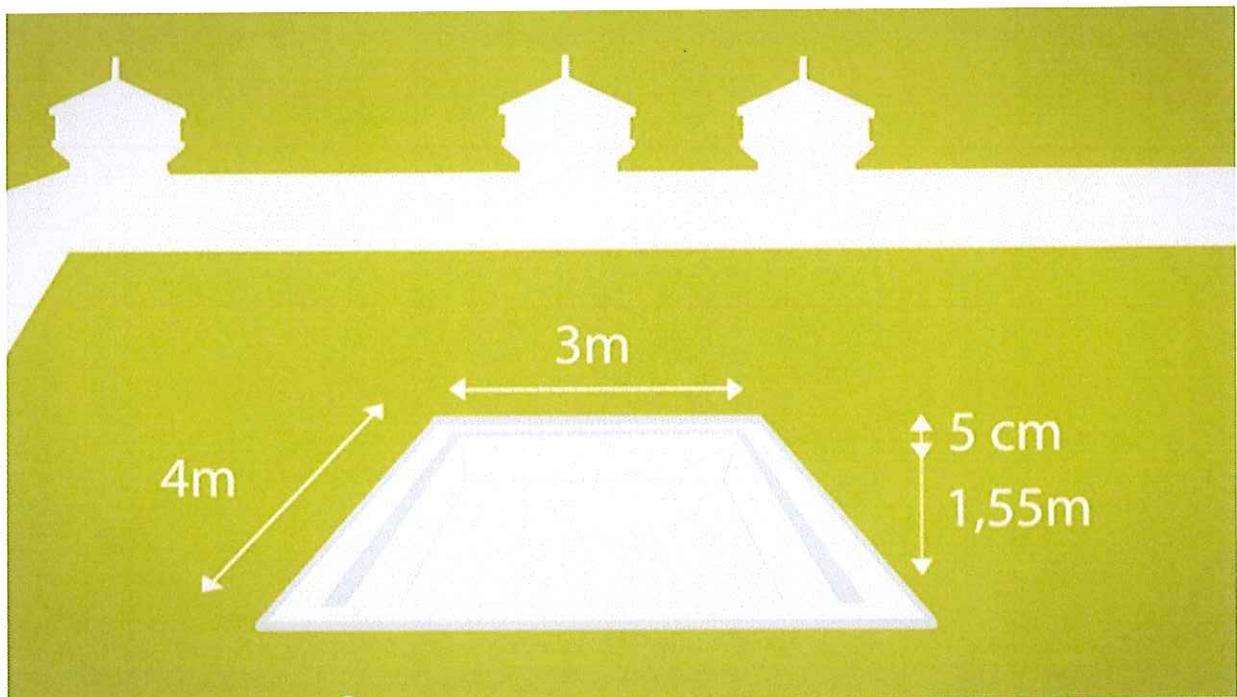


# Opdrachten

Inhoud berekenen



## Opdracht 1

Vul de juiste eenheid in. Kies uit: ml, cl, dl of l.

a.



De inhoud van het flesje nagellak is

18

b.



In het kopje zit

1  koffie.

c.



In de fles zit

4,75  wasmiddel.

d.




De inhoud van de fles frisdrank is

50

## Opdracht 2

Bekijk de afbeelding.



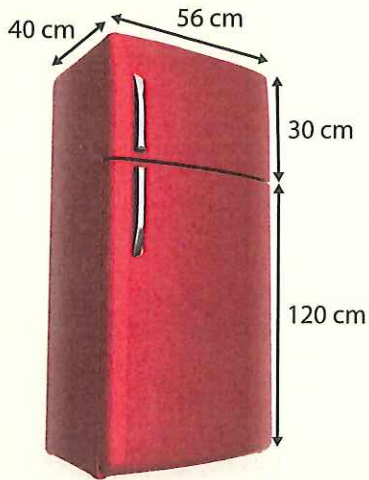
Wat is de inhoud van de verhuisdoos in kubieke decimeter?  
Schrijf de berekening op.

---

---

### Opdracht 3

Bekijk de afbeelding.



Wat is de inhoud van de koel-vriescombinatie in liter?  
Schrijf de berekening op.

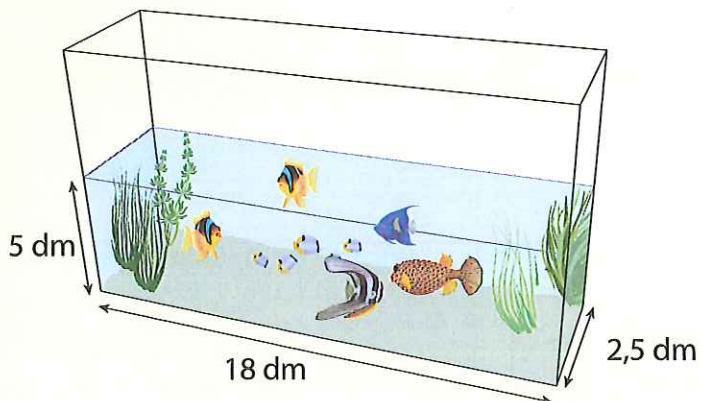
---

---

---

### Opdracht 4

Bekijk de afbeelding.



Fred vult zijn aquarium bij met 200 liter water.  
Hoeveel liter water zit er nu in het aquarium?  
Schrijf de berekening op.

---

---

## Opdracht 5

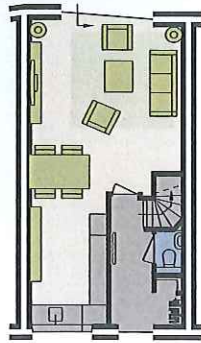
Bekijk de folder van het nieuwbouwhuis.

Sterrenwijk, de leukste woonwijk!

Begane grond

Woonkamer:  
oppervlakte  $40 \text{ m}^2$

Gang:  
oppervlakte  $5 \text{ m}^2$



Reken uit en schrijf de berekening op.

- a. De woonkamer is 2,75 m hoog.  
Wat is de inhoud van de woonkamer in kubieke meter?

- b. De gang is 2,5 m hoog.  
Wat is de inhoud van de gang in kubieke meter?

## Opdracht 6

Bekijk de advertentie van de wasmand.

An advertisement for a wicker laundry basket. The basket is shown on the left, filled with a white cloth. To the right, the text reads "Wasmand" in large blue letters, "Hoogte: 70 cm" below it, and a price tag showing a crossed-out "€ 29,99" and a new price of "€ 25".

**Wasmand**  
Hoogte: 70 cm  
~~€ 29,99~~  
**€ 25**

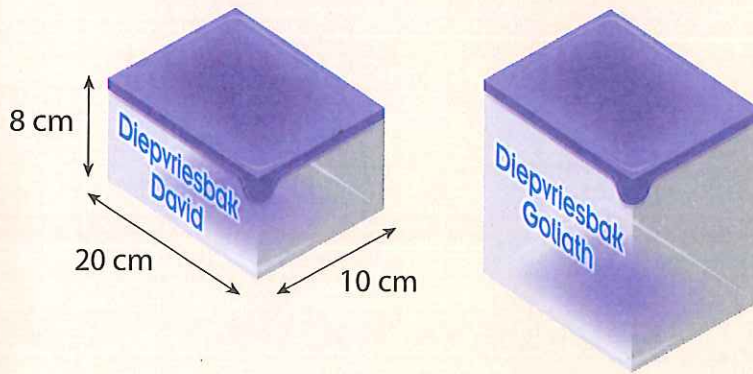
De bodem van de wasmand heeft een oppervlakte van  $1.200 \text{ cm}^2$ .

Wat is de inhoud van de wasmand in liter?

Schrijf de berekening op.

## Opdracht 7

Bekijk de tekening van de diepvriesbakken.



Reken uit en schrijf de berekening op.

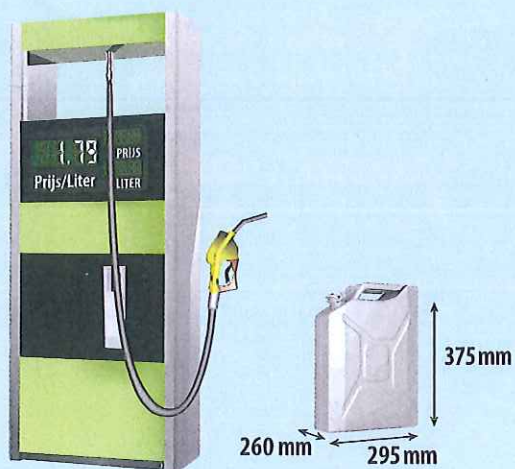
a. Wat is de inhoud van de diepvriesbak David?

b. De diepvriesbak Goliath is twee keer zo hoog als de diepvriesbak David.  
Wat is de inhoud van de diepvriesbak Goliath?

c. Hoeveel keer zo groot is de inhoud van de diepvriesbak Goliath als de diepvriesbak David?

## Opdracht 8

Bekijk de afbeelding.



Laat met een berekening zien hoeveel een volle jerrycan benzine kost.