



Rekencluedo



Verbanden (3F)

Cluedo...

- Oplossen van een moord



Spelregels...

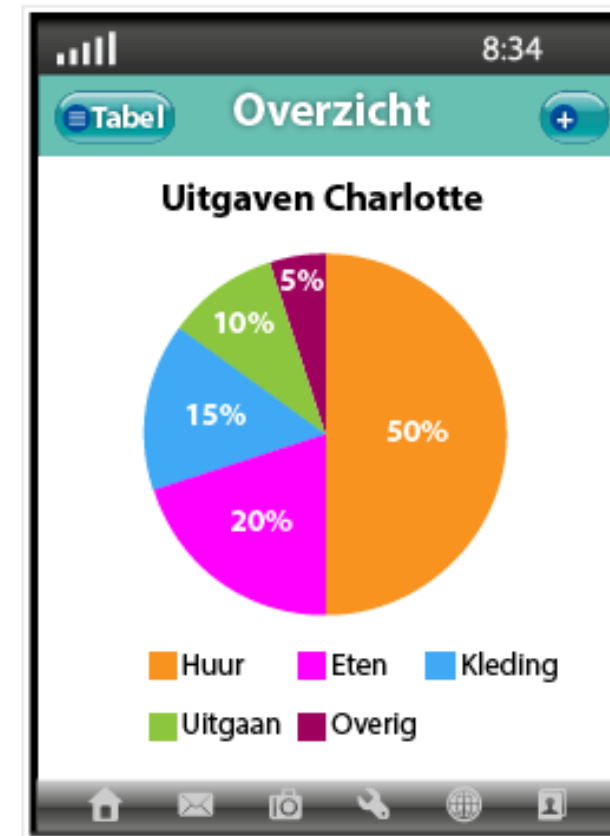
- 3 á 4 personen
- Docent neemt een cijfer in zijn hoofd/ schrijft het op de achterkant van het bord
- Rekenvragen oplossen
- Vragen stellen over het cijfer, alleen met ja/nee te beantwoorden
- Probeer het cijfer te raden
- **Schrijf het antwoord op het bordje!**



Rekenvraag 1

- Charlotte geeft €300,- per maand uit aan eten.

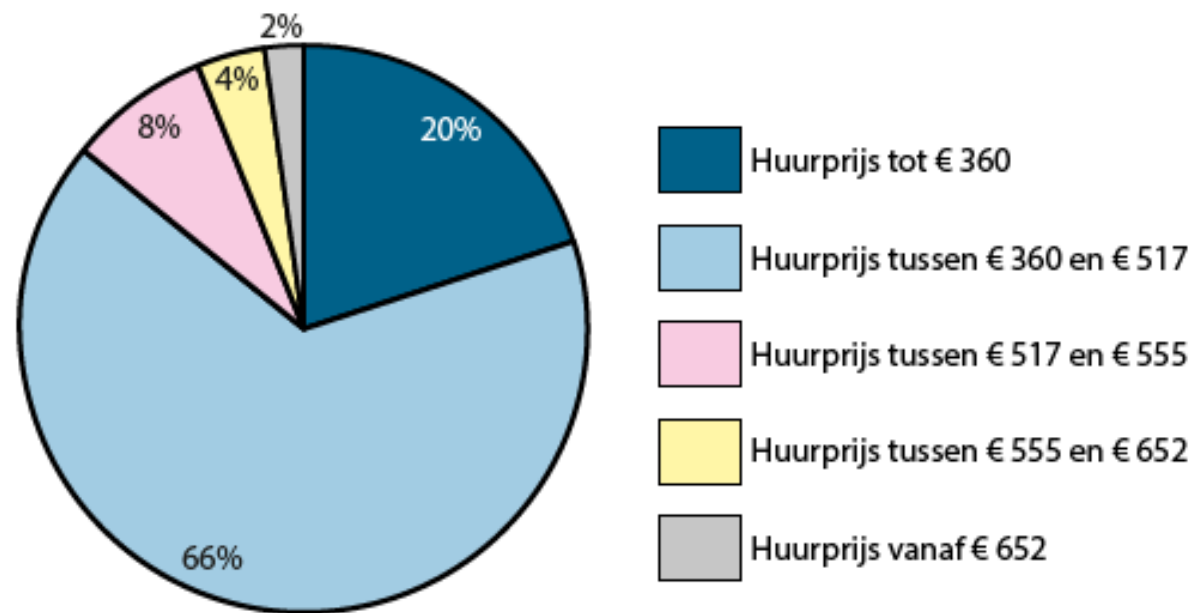
Hoeveel geeft Charlotte per maand in totaal uit?



Rekenvraag 2

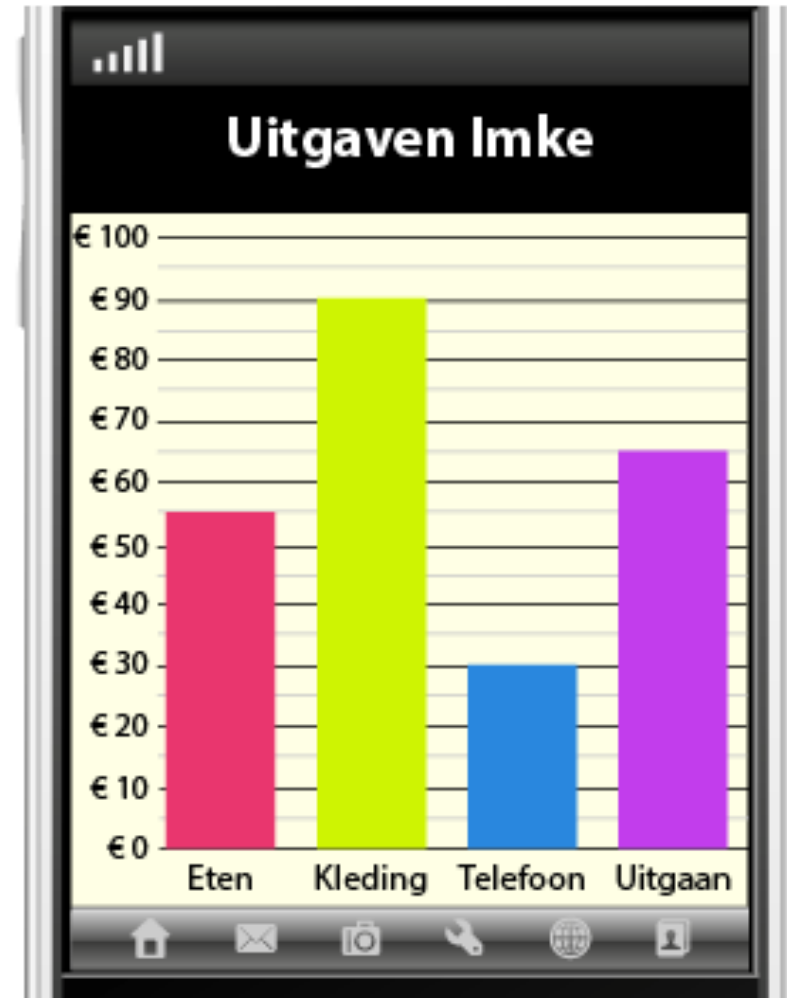
- Hoeveel nieuwbouwwoningen zijn er met een huurprijs tussen de €555,- en de €652,-?

Overzicht huurprijzen per maand nieuwbouw
Totaal aantal nieuwbouwwoningen is 6.000



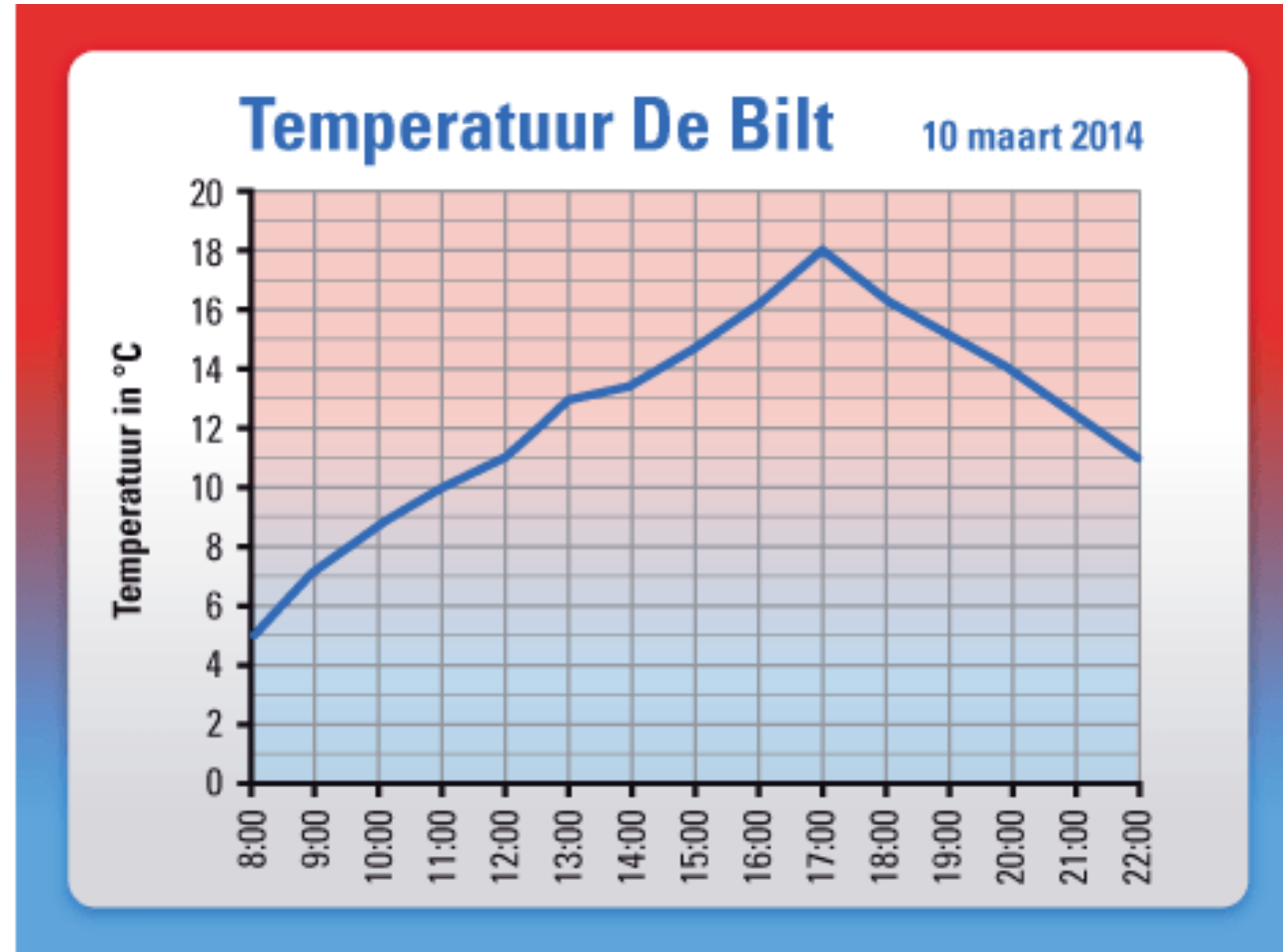
Rekenvraag 3

- Hoeveel euro heeft Imke uitgegeven aan uitgaan?



Rekenvraag 4

- Hoe warm was het om 17:00 in de Bilt?



Rekenvraag 5



Nippon Sushi

Home A la carte **Complete pakketten** Contact

Complete sushipakketten, voor zo veel personen als je maar wilt!

| | | | |
|-----------------|---------|---------|---------|
| Aantal personen | 1 | 2 | 5 |
| Kosten* | € 22,00 | € 39,50 | € 92,00 |

*Inclusief bezorgkosten

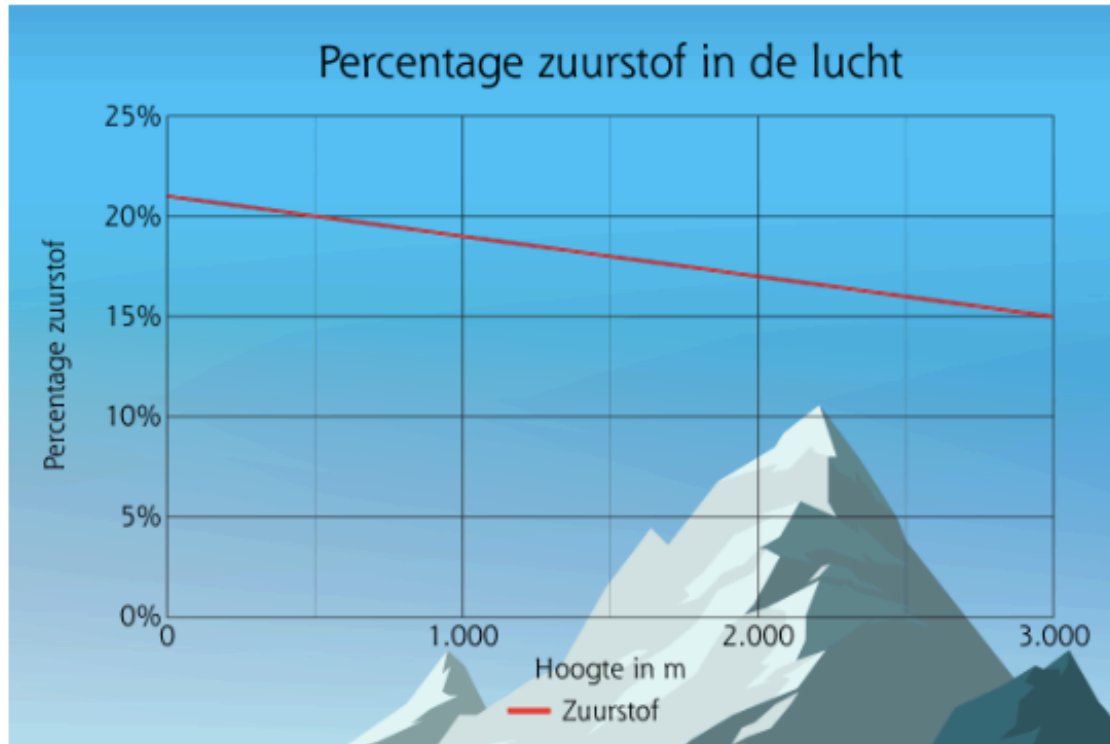
Klik op de afbeelding om te vergroten

Nippon Sushi verlaagt de bezorgkosten met € 1,50. De prijs van een sushipakket wordt verhoogd met € 3,80 per persoon.

Met welke formule kun je de totale prijs van een sushipakket na de prijswijzigingen berekenen?

- A. Kosten sushipakket = aantal personen \times € 25,80 + € 3,00.
- B. Kosten sushipakket = aantal personen \times € 25,80 + € 4,50.
- C. Kosten sushipakket = aantal personen \times € 21,30 + € 3,00.
- D. Kosten sushipakket = aantal personen \times € 21,30 + € 4,50.

Rekenvraag 6



In de grafiek zie je het verband tussen de hoogte en het percentage zuurstof in de lucht.

Op hoogtes van meer dan 3.000 m geldt hetzelfde verband.

Op welke hoogte is het percentage zuurstof 8%?

m.

[Volgende >](#)

[Juiste antwoord](#)

[Goed?](#)



Rekenvraag 7



Home [Menu](#) Zoeken [Inloggen](#)

[Home](#) > [Auto en vervoer](#) > [Belastingen op auto en motor](#) > [Bpm](#) > [Bpm berekenen en betalen](#)


Bereken de bpm

Bpm is de belasting die je betaalt als je een auto of motor koopt.

De bpm op personenauto's bereken je zo:

- kijk in kolom **A** in welke categorie de CO₂-uitstoot van de auto valt
- trek van de CO₂-uitstoot van de auto het getal in kolom **B** af
- vermenigvuldig de uitkomst met het bedrag in kolom **C**
- tel hier het bedrag uit kolom **D** bij op

| A | B | C | D |
|-------------------|-----|-------|----------|
| 0 - 71 g/km | 0 | € 2 | € 360 |
| 71 - 95 g/km | 71 | € 60 | € 502 |
| 95 - 139 g/km | 95 | € 131 | € 1.942 |
| 139 - 156 g/km | 139 | € 215 | € 7.706 |
| meer dan 156 g/km | 156 | € 429 | € 11.361 |



Helga koopt een auto. De CO₂-uitstoot van de auto is 120 g/km.

Hoeveel bpm betaalt Helga over de auto?

€

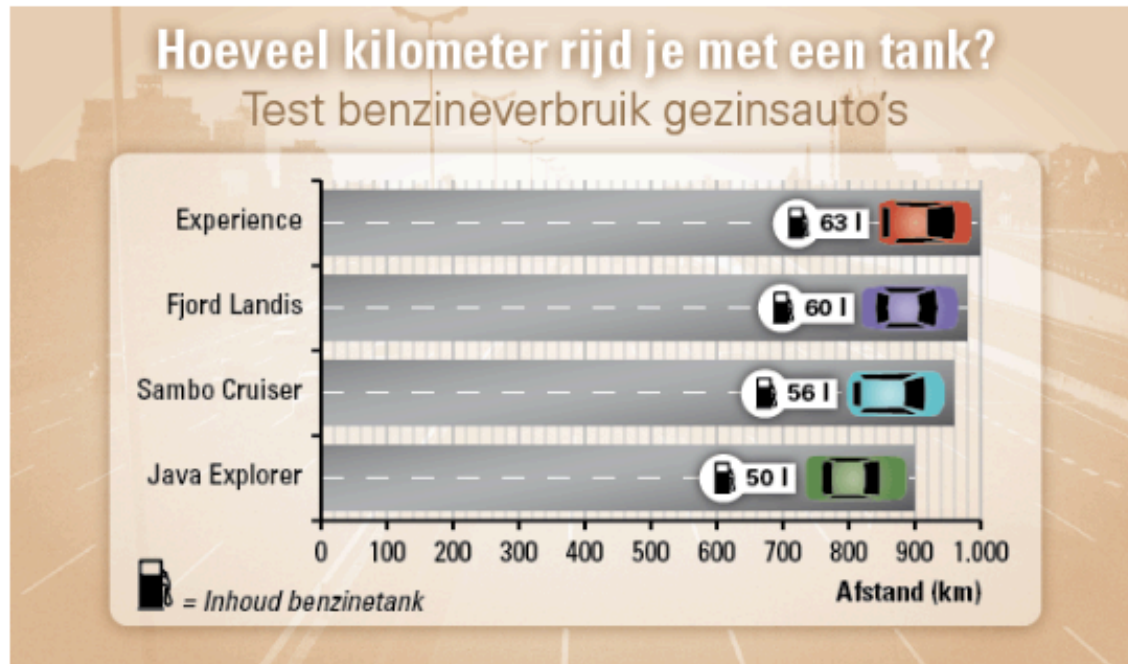
[Volgende >](#)

[Juiste antwoord](#)

[Goed?](#)



Rekenvraag 8



Hoeveel kilometer kan de zuinigste auto met 1 liter benzine rijden?

km.

[Volgende >](#)

[Juiste antwoord](#)

[Goed?](#)

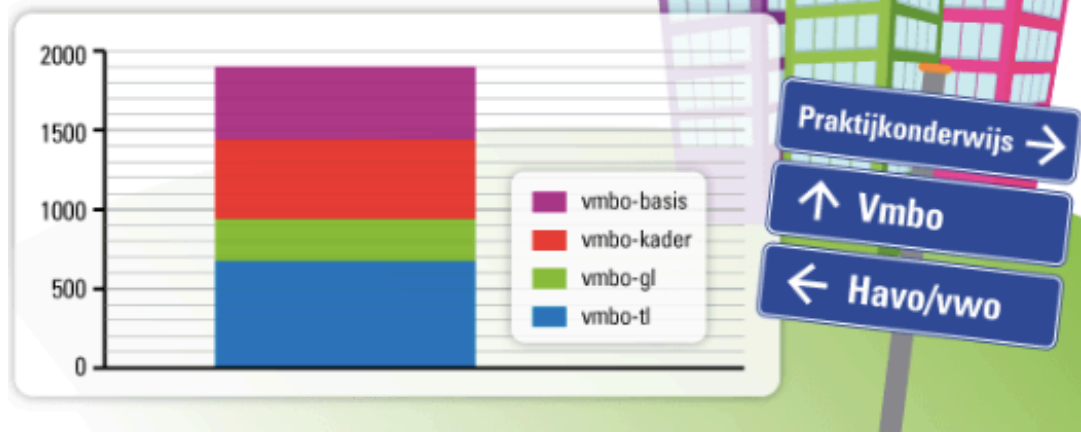


Rekenvraag 9



Aantal leerlingen per vmbo-school (verdeeld naar leerweg)

| | Schothorst College | Merwede College | ABC College | Deltion |
|------------|-----------------------|--------------------|----------------|---------|
| vmbo-tl | 776 | 690 | 680 | 785 |
| vmbo-gl | 300 | 200 | 247 | 252 |
| vmbo-kader | 530 | 565 | 500 | 555 |
| vmbo-basis | 519 | 500 | 466 | 445 |



Van welke vmbo-school staan de leerlingenaantallen in het staafdiagram?

- A. Van het Schothorst College.
- B. Van het Merwede College.
- C. Van het ABC College.
- D. Van het Deltion.

Vul **A**, **B**, **C** of **D** in.

Volgende >

Juiste antwoord

Goed?



Rekenvraag 10



BIOSCOOP DELUX
KORTINGSKAART 2013
€ 28

Op vertoon van een kortingskaart kost een bioscoopkaartje geen € 11, maar € 7,50.

Fiene en Job gaan in 2013 elke maand één keer naar de bioscoop.
Fiene koopt een kortingskaart.
Job kiest ervoor om geen kortingskaart te kopen.

Hoeveel moet Job in totaal in 2013 meer betalen dan Fiene?

€

[Volgende >](#)

Juiste antwoord

Goed?



And the winner is...



Dankjewel voor het meedoen!

