



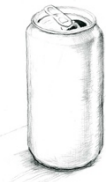
Werkblad - Inhoudsmaten kiezen

<p>De inhoud van een emmer is ongeveer 90 ... Wat is de juiste maat?</p>  <p style="text-align: right; border: 1px solid black; padding: 2px;"><b>Antwoord</b></p> <p>Laat met je vingers zien welke maat je kiest. Wacht op een teken van de leraar.</p>	<p>De inhoud van een koffiebekertje is ongeveer 200 ...</p>  <p style="text-align: right; border: 1px solid black; padding: 2px;"><b>Antwoord</b></p> <p>Laat met je vingers zien welke maat je kiest. Wacht op een teken van de leraar.</p>
--	--



--	--

De inhoud van een glas is ongeveer 2,5 ...		A.	ml	In een pak melk zit 1,5 .....		A.	ml
		B.	cl			B.	cl
		C.	dl			C.	dl
		D.	l			D.	l

--	--

De inhoud van een blikje drinken is ongeveer 33 .....		A.	ml	1 kubieke decimeter (dm <sup>3</sup> ) is 1 .....	A.	ml
		B.	cl		B.	cl
		C.	dl		C.	dl
		D.	l		D.	l

--	--

De inhoud van een kopje is ongeveer 125 .....		A.	ml	De inhoud van een flesje water is 500 .....		A.	ml
		B.	cl			B.	cl
		C.	dl			C.	dl
		D.	l			D.	l