




Het tellen van bomen



Dit schema toont een aantal bomen in een plantage.

De cirkels  tonen oude bomen en de driehoeken  tonen jonge bomen.

Tom wil weten hoeveel bomen er van elk type zijn, maar zegt dat het teveel tijd in beslag zou nemen om ze allemaal één voor één te tellen.

1. Welke methode zou hij kunnen gebruiken om het aantal bomen van elke soort te schatten?
Licht je methode goed toe.
2. Gebruik op het werkblad jouw methode om van de volgende soorten het aantal te schatten:
 - (a) Oude bomen
 - (b) Jonge bomen