



Begrippentoets 'Pijlenketting'

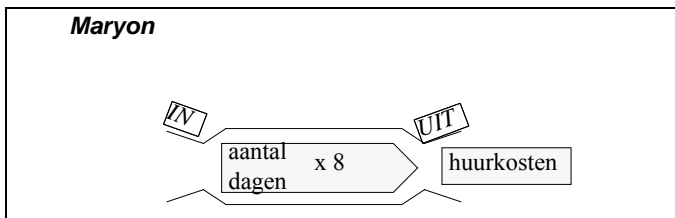
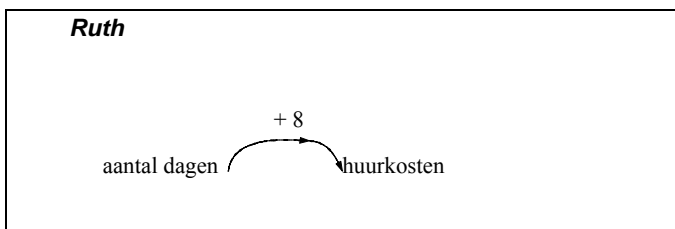
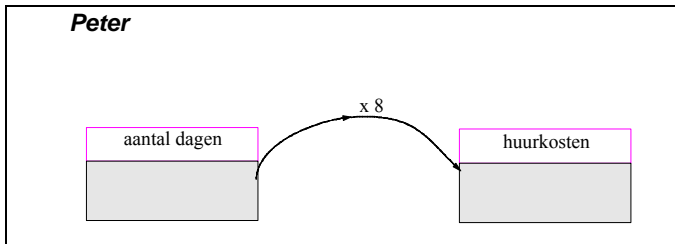
Schrijf met pen gebruik geen potlood

Naam:

Klas:

Datum:.....

1. De leerlingen van de brugklas moeten bij een verhaaltje een pijlenschema of een machientje tekenen. Hieronder zie je drie antwoorden van leerlingen.



Welke twee antwoorden betekenen hetzelfde?

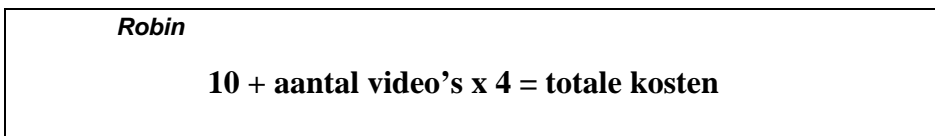
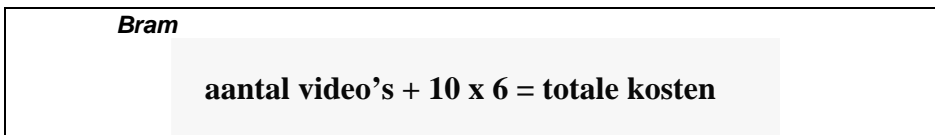
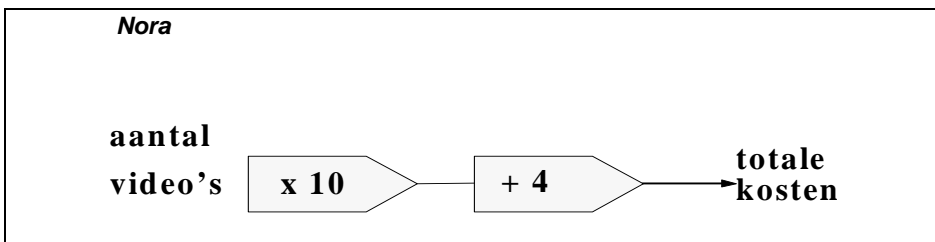
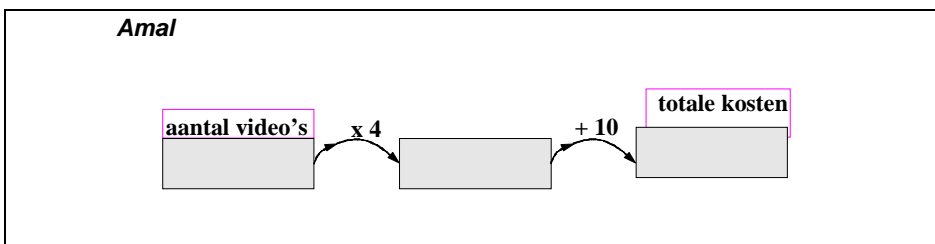
Het antwoord van..... betekent hetzelfde als

het antwoord van

2. De leerlingen van de brugklas krijgen het volgende verhaaltje. Ze moeten een pijlenketting of een formule maken waarmee je de kosten berekent voor videohuur met een abonnement.

***Videotheek Metamorfose altijd lage prijzen:
videohuur 5 euro per stuk.
Of koop een abonnement van 10 euro
dan betaal je maar 4 euro per video.***

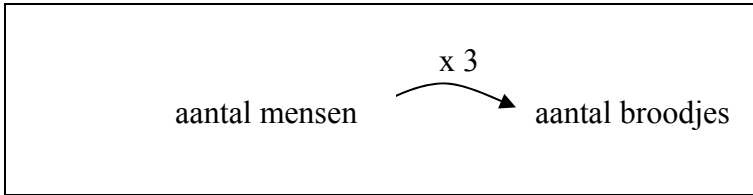
Hieronder zie je de antwoorden van vier leerlingen.



Welke leerlingen geven een goed antwoord?

.....

3. Hieronder zie je een rekenpijl. Bedenk daar zelf een kort verhaal bij.



Mijn verhaal:

.....

.....

.....

.....

.....

.....

4. Hieronder zie je een reclame.

Opgelet!!!
Alleen bij Fred
kost een kroket
maar 1,10 euro
per stuk

Teken een rekenpijl die hierbij hoort.

Mijn rekenpijl:

5. Wat zie je in het hok hieronder? Zet een kruis voor het goede antwoord.

Het aantal foto's x 3.50 + 3 = kosten.

- een rekenpijl
- een pijlenketting
- een formule
- iets anders namelijk:

6. Hieronder zie je een kort verhaaltje.

*Je koopt een mooi blik. Je doet er een aantal lollies in.
Het blik kost € 1,50. De lollies zijn € 0,20 per stuk.*

Maak een pijlenketting om de totaalprijs van het blik en de lollies te berekenen.

Mijn pijlenketting:

7. Wat betekent het woord 'tarief' in de volgende zin?
Zet een kruis voor het juiste antwoord.

Het tarief is de laatste jaren wel erg gestegen.

TARIEF betekent:

- de hoogte van de struiken
- de prijs van iets
- het aantal bezoekers
- iets anders, namelijk:

8. Welk groepje woorden betekent ongeveer hetzelfde als het woord TARIEF?
Zet een kruis door dat rijtje.

drop
suiker
koekjes

planten
groei
hark

kosten
bedrag
prijs

mode
laarzen
haargel

9. Lees de volgende zin.

Joost weet niet welke waarde hij in de tabel moet invullen.

Welk woord betekent ongeveer hetzelfde als het woord WAARDE in de zin hierboven?

Kruis aan.

- stapgrootte
- regelmaat
- getal
- iets anders namelijk:.....

10. Kijk naar de tabel hieronder.

<i>aantal</i>	7	10	11	21	29
<i>gewicht in grammen</i>	140	200	220	420	580

De getallen 7, 10, 18, 21, 29 zijn in dezelfde geschreven.

Kruis aan wat er op de stippels moet staan.

- kolom
- regelmaat
- rij
- diagonaal
- iets anders, namelijk

11. Kijk naar de cijferlijst hieronder.

Vak	Cijfer
Wiskunde	7
Nederlandse Taal	6
Engels	5
Gymnastiek	8

De getallen 7, 6, 5 en 8 zijn in dezelfde geschreven.

Kruis aan wat er op de stippels moet staan

- kolom
- regelmaat
- rij
- diagonaal
- iets anders, namelijk

12. Het woord VOORRIJKOSTEN kom je vaak tegen in je wiskundeboek.
Leg eens uit wat dit woord betekent.

.....
.....
.....

13. Ook het woord waarde kom je in je wiskundeboek tegen. Maak een zin met daarin het wiskundewoord WAARDE .

.....
.....
.....

14. Kruis aan in welke zin het over het woord VOORRIJKOSTEN gaat

- De man die voorop rijdt heeft de meeste kosten
- Als televisie kapot is en je laat iemand bij je thuis komen moet je daarvoor betalen. Daar komt later het werkloon nog bij!
- De kosten die je maakt als je te snel voorbij een snelheidsmeter rijdt.
- Iets anders, n.l.....