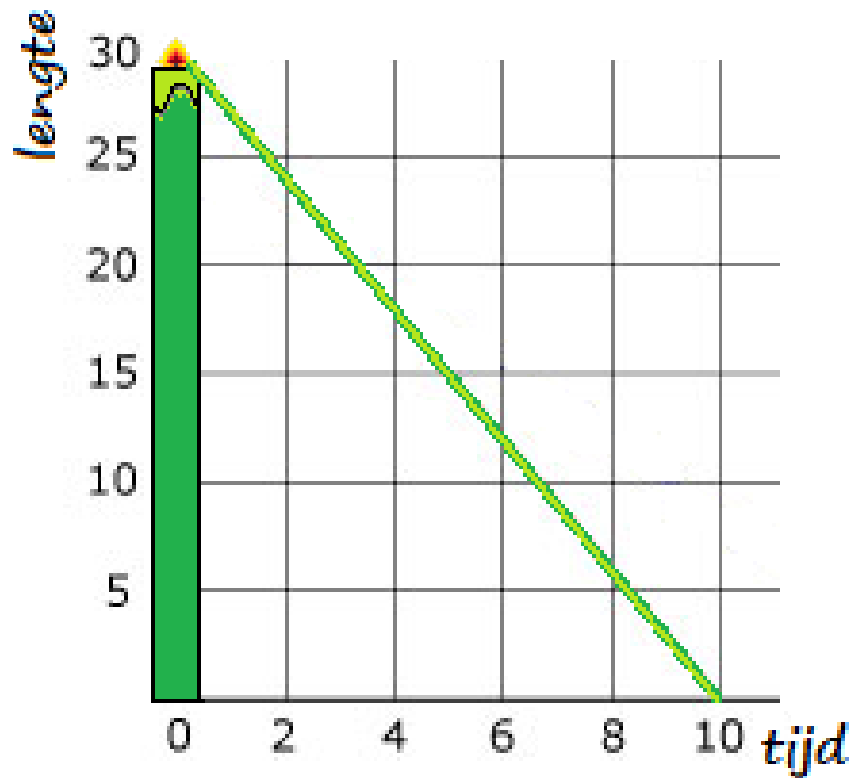


Branden van een kaars



WISKUNDE

WISKUNDE

Hoofdstuk 5

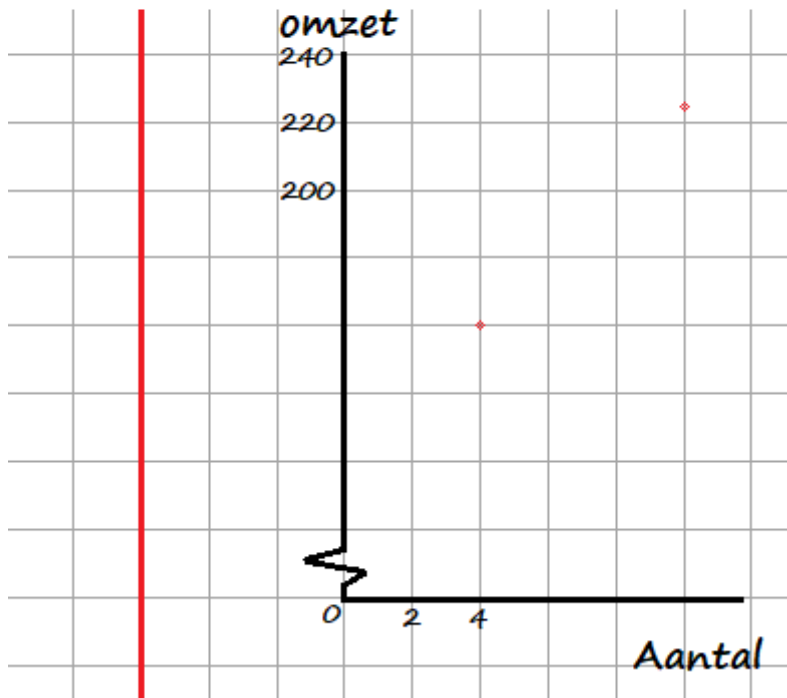
Naam: _____

Klas: _____

H5.1 Voorkennis

5.1 opdracht 7.

Aantal	0	4	6	10
Omzet	100	160	190	225



H5.2 Regelmaat

5.2 opdracht 5.

Tabel 1

X	1	2	3	4
Y	7	14	21	28

Tabel 4

Aantal minuten	2	4	6	8
Centimeters	8	14	20	26

Tabel 2

Aantal rondjes	1	2	3	4
Opbrengsten in €	5	7	9	11

Tabel 5

X	-2	-1	0	1
Y	15	10	5	0

Tabel 3

T	0	2	4	6
I	100	80	60	40

Tabel 6

A	-2	-1	0	1
B	8	10	12	14

5.2 opdracht 8.

Schilderen

Aantal uren	1	2	4	10	12	15
Aantal miniaturen	2	4	8	20	24	30



Vullen ballon

Aantal minuten	1	3	4	6	10	12
Inhoud in liter	1,5	4,5	6	9	15	18

Benzine verbruik

Aantal gereden km	0	50	150	180	220	400
Inhoud tank in liter	45	40	30	27	23	5

5.2 opdracht 9.

Luisterboeken komen.

Aantal boeken	0	1	2	3	4	5
Prepaid te goed	12,50	10	7,50	...

Kralenketting.

Aantal rode	0	2	4	6	8	10
Aantal gele	9	12	15	...

Kinderfeestje

Aantal kinderen	0	1	2	3	4	5
Kosten in €	34	42	49	...

Spaargeld.

Tijd in weken	0	1	2	3	4	5
Bedrag in €	24	30	...	42

5.2 opdracht 10.

Dalen met een luchtballon.

Tijd in minuten	0	5	8	12	13	20
Hoogte in m	800	700	640	560	540	0

Kermisattractie

Dagen	1	3	6	10	15	21
Bezoekers	30	90	180	300	450	630



Game

Aantal rondes	0	2	5	7	12	15
Kills	0	45	75	105	180	225

Groei plant

Dagen	1	3	5	9	14	20
Aantal bladeren	7	13	19	31	46	64



5.2 opdracht 11.

Tabel 1

A	1	2	3	4
H	7	14	21	28

Tabel 4

Aantal minuten	2	4	5	10
Centimeters	8	14	17	32

Tabel 2

Aantal rondjes	1	3	5	7
Opbrengsten in €	7	21	35	77

Tabel 5

X	0	1	3	6
Y	2	7	17	32

Tabel 3

T	0	2	4	6
I	100	80	60	40

Tabel 6

T	-2	-1	0	1
H	5	7	9	11

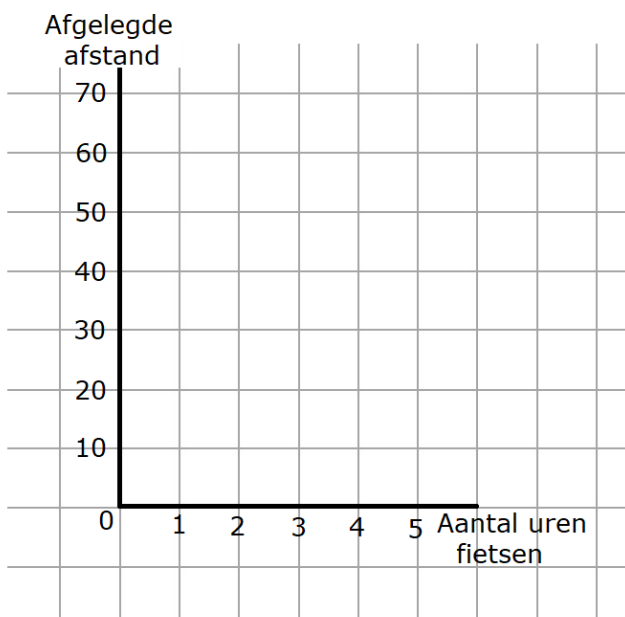
H5.5 Lineaire grafieken

5.5 opdracht 1.

a. _____

b. _____

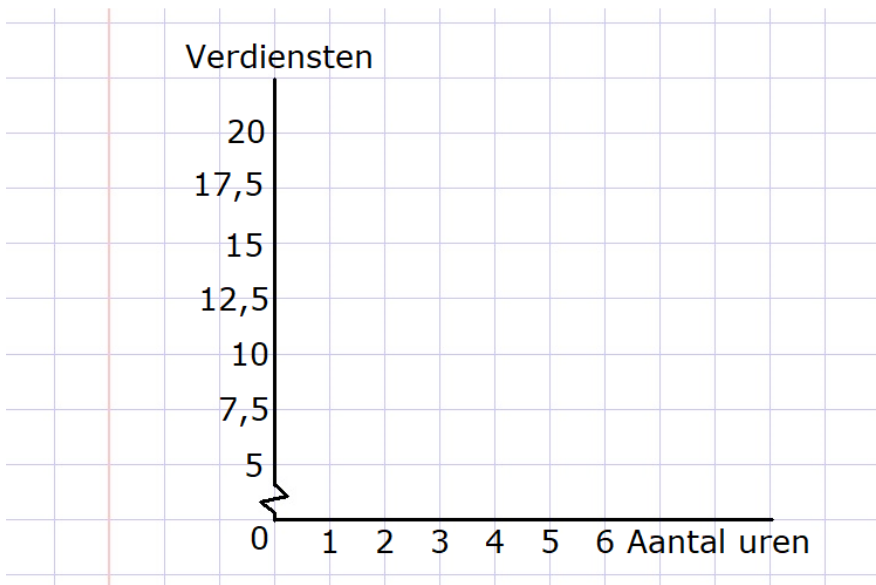
Aantal uur fietsen	0	1	2	3	4
Afgelegde afstand					



5.5 opdracht 2.

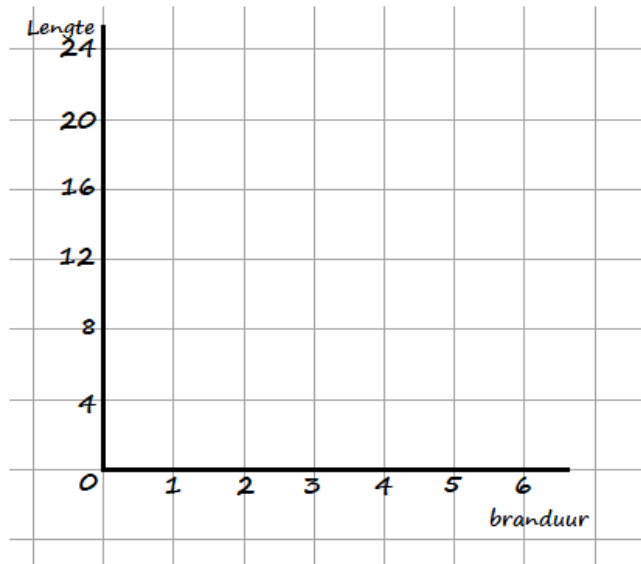
a. _____

Aantal gewerkte uren	0	3	6
Verdiensten			



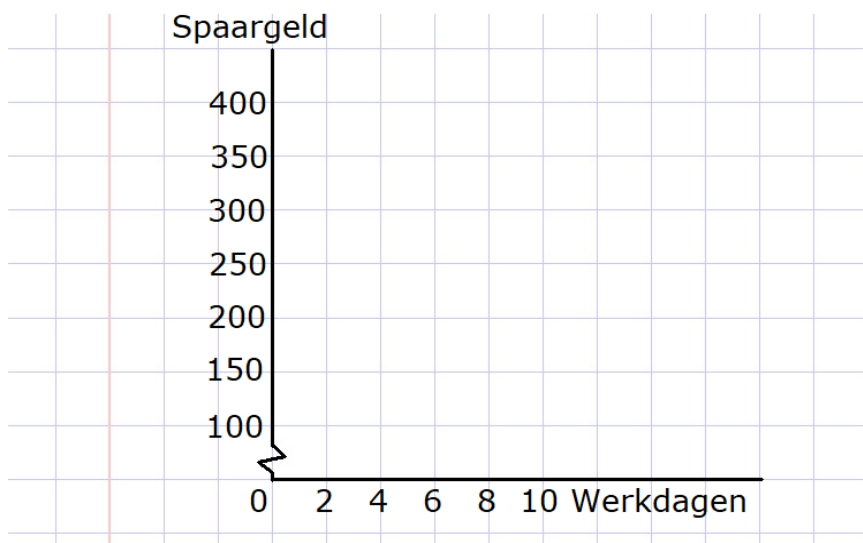
5.5 opdracht 4.

Aantal branduren	0	1	2	3	4	5	6
Lengte kaars	24			12			0

**5.5 opdracht 7.**

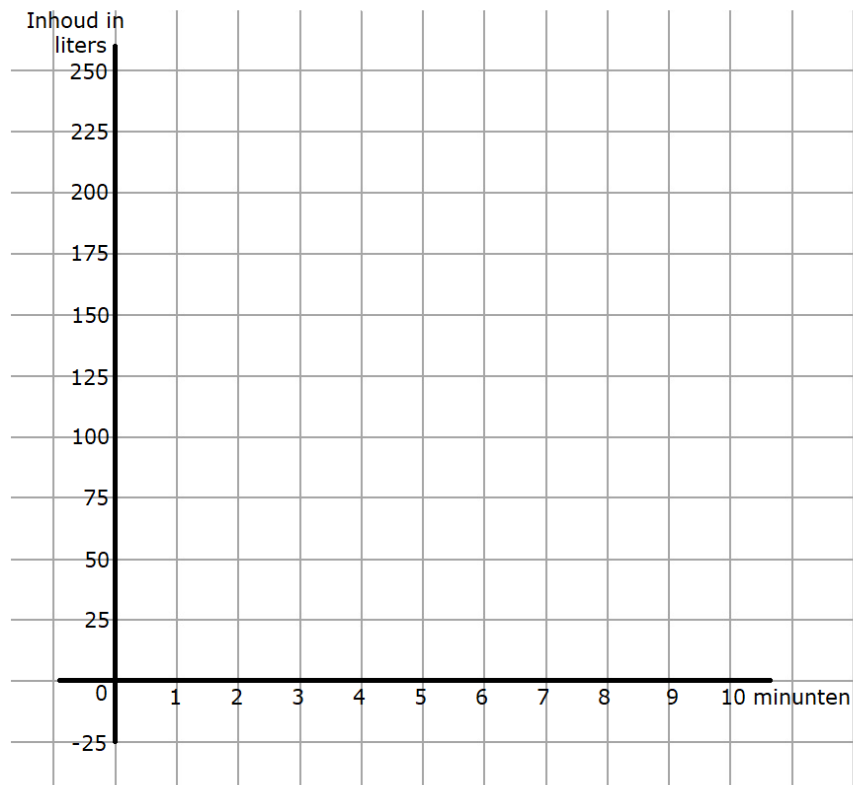
a. _____

Aantal werkdagen	0	4	10
Spaargeld			



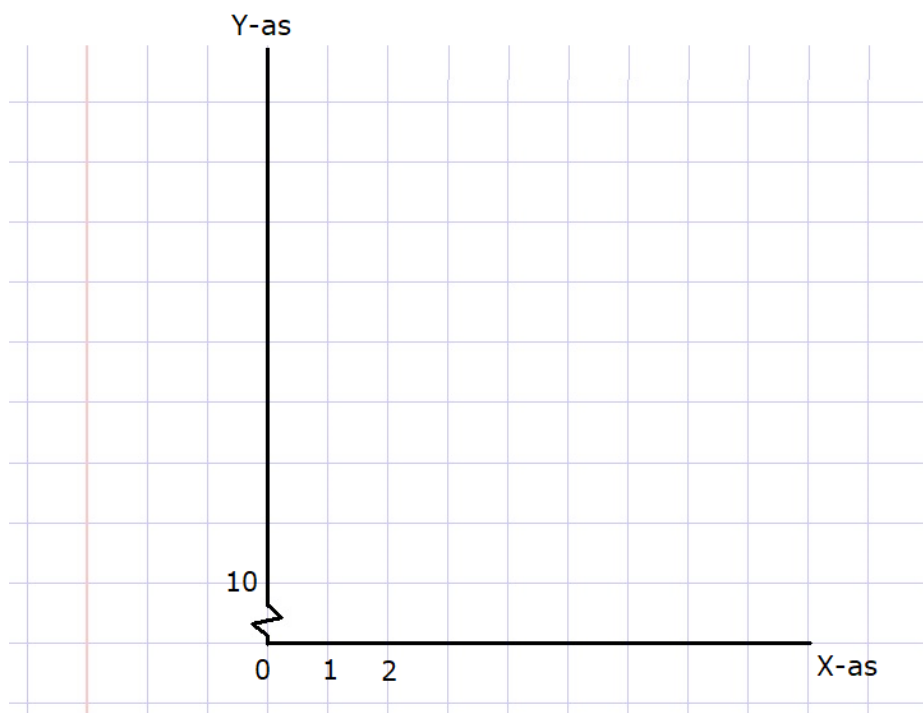
5.5 opdracht 10.

Aantal minuten	0	4	8	10
Inhoud in liters				



5.5 opdracht 13.

X	0	2	5	9
Y				



5.5 opdracht 15.

Aantal kwartieren	0	4	8	12	16	20
Aantal MB's	5000					0

