



PLAATSBEPALEN

Alles op de wereld kent een plaats. Welke richting je in gaat, waar je iets kan vinden, of coördinaten in de wiskunde, het heeft allemaal te maken met de plaats waar het staat.

Paragraaf 1.2

Plaatsbepalen op kaart



KENNISBANK

Plaatsbepalen

Om een plaats op een kaart aan te geven gebruik je vaknummers.

- Joost woont bij punt J.
Joost woont in vak C2.
- De voetbalvelden liggen in de vakken A1 en A2.

Van de kaart kun je een routebeschrijving maken.

Joost fietst naar de kerk. Hij start in vak C2

De route die Joost fietst staat op de kaart.

Bij de eerste kruising gaat Joost rechtsaf.

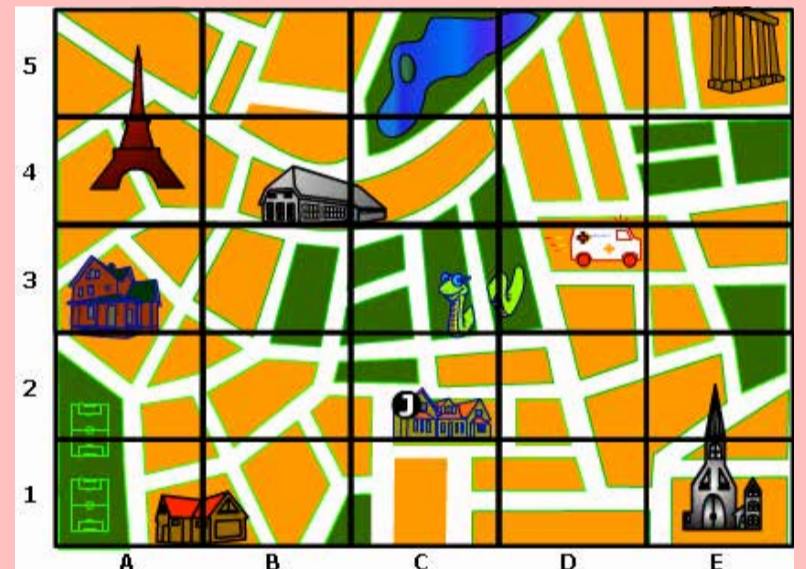
Bij de tweede kruising gaat Joost linksaf.

Bij de derde kruising gaat Joost rechtdoor.

Bij de vierde kruising gaat Joost rechtsaf.

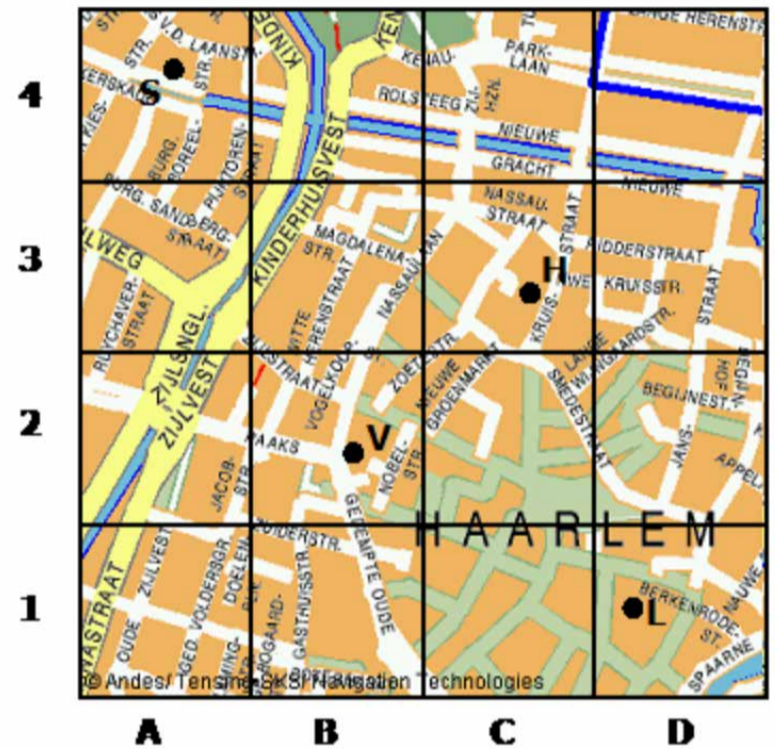
Bij de vijfde kruising gaat Joost linksaf.

Dan is hij bij de kerk.



- 1 Bekijk de kaart uit de kennisbank.
 Om een plaats op een kaart aan te geven gebruik je vaknummers.
 Op de kaart zie je 7 gebouwen aangegeven.
 a. Schrijf de vakken op waarin je de gebouwen vindt.
 (schrijf op van Eiffeltoren, grijs gebouw, groot rood huis, bruin huis, pilarengedouw, huis J, kerk)
 b. Heb je hetzelfde antwoord als je buurman?
 c. In welk vak vindt je de ambulance?

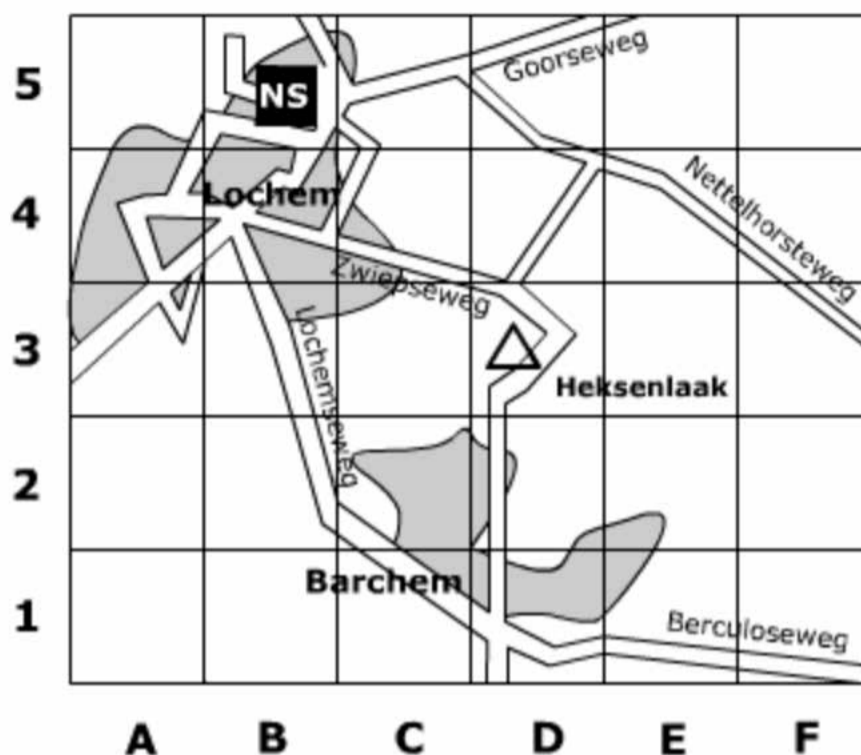
- 2 Je ziet een deel van de plattegrond van Haarlem.
 De ligging van het huis van Sjaak is aangegeven met de letter S.
 a. In welke vak woont Sjaak?
 b. Hanneke's huis vind je bij de letter H.
 In welk vak woont Hanneke?
 c. Victor woont op het punt waar de Nassaulaan, Raaks en de Gedempte Oude Gracht samen komen? In welk vak woont Victor?
 d. Door welke vakken loopt de Jansstraat?
 e. Bekijk de kaart van Steenberg.
 De **blauwe stip** is de plaats waar je nu bent (op school, op 't R@velijn.



- 3 Je ziet een kaart van Brouwershaven.
 a. De molen aan het eind van de Molenstraat zit in vak?
 b. De Dapperweg zit vooral in vak?
 c. Kerken vind je in de vakken?
 d. In vak D3 zit vooral?



- 4 Bekijk de plattegrond.
- Het centrum van Lochem ligt in vak B4?
 - Kleur dat vlak in op het werkblad.
 - Hoe heet de camping in vak D3?
 - In welke zes vlakken ligt Barchem?
 - Je rijdt van Lochem naar Barchem over de Lochemse weg. Door welke vakken kom je?



- 5 Bekijk de plattegrond nog een keer
- In welk vak ligt Heksenlaak?
 - In welk vak ligt het station van NS?

- 6 Bekijk nogmaals de plattegrond.
Je fietst van Lochem naar Barchem.
Door welke vakken kom je als je over de Lochemseweg fietst? Kies uit:
- B4, C4, C3, D3, D2 en D1
 - B4, B3, C3, C2, en C1
 - B4, B3, B2, C2, en C1

- 7 Je ziet hier de plattegrond van Kerkdriel.
- Joost woont bij de rode stip.
In welk vak staat het huis van Joost?
 - Iram woont vlak bij het kruispunt van de Kromsteeg en de Julianastraat.
In welk vak staat het huis van Iram?
 - Zoek de Kerkstraat op. Door welke vakken loopt de Kerkstraat?



8 Je ziet een stuk van de kaart van Nederland.



- Hoe heet de stad die in het vak D1 ligt?
- In welk vak of welke vakken ligt Den Haag?
- De A12 is een snelweg die loopt van Den Haag via Utrecht naar Arnhem. Zoek de A12 op. Door welke vakken loopt de A12?
- Door welke vakken loopt de A27?
- Schiphol ligt naast Hoofddorp, maar staat niet op deze kaart aangegeven. In welk vak zou je Schiphol moeten tekenen?

9 Bekijk de kaart.

Je bent bij punt S.

Je fietst in de aangegeven richting.

Bij iedere kruising kun je linksaf, rechtsaf of rechtdoor.

Hieronder zie je hoe je fietst:

rechtsaf - linksaf - rechtdoor - rechtdoor - rechtsaf.

Bij welk punt ben je aangekomen?

