

1. Paragraaf 8.2 Welke van onderstaande beweringen zijn goed?

- A De secundaire geslachtskenmerken zijn vanaf de geboorte aanwezig.
- B De groeispuurt is één van de tertiaire geslachtkenmerken.
- C In de puberteit krijg je meer zweetklieren.
- D Jongens en meisjes beginnen op dezelfde leeftijd aan de puberteit.
- E Zodra de puberteit is begonnen, kun je kinderen krijgen.

2. Paragraaf 8.2 Lotte scheert haar benen en haar oksels, is 1.83 meter en heeft last van puistjes. Deze maand heeft zij een paar nieuwe sneakers gekocht. Welke kenmerken van Lotte zijn beschreven?

- A Secundaire geslachtkenmerken die alleen bij meisjes voorkomen.
- B Secundaire geslachtskenmerken die bij jongens en meisjes voorkomen.
- C Secundaire en tertiaire geslachtskenmerken die alleen bij meisjes voorkomen.
- D Secundaire en tertiaire geslachtskenmerken die bij jongens en meisjes voorkomen.

3. Paragraaf 8.4 Door welke van onderstaande antwoorden kunnen Soa's worden doorgegeven?

- A Via sperma
- B Via vocht uit de vagina
- C Via bloed
- D Bij het aanraken van de wc-bril
- E Door uit hetzelfde glas te drinken
- F Bij contact tussen slijmvliezen

4. Paragraaf 8.4 Wat valt onder veilig vrijen?

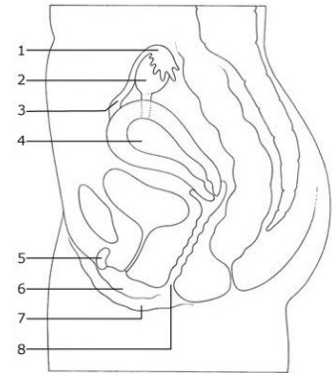
- A Na het vrijen gelijk onder de douche.
- B Een condoom gebruiken bij geslachtsgemeenschap.
- C Elkaar strelen, tongzoenen en knuffelen.
- D Elkaar met de hand bevredigen of jezelf bevredigen.
- E Net voor het klaarkomen de penis uit de vagina terugtrekken.

5. Paragraaf 8.4 Bron 2 Bij welke twee Soa's kan onvruchtbaarheid het mogelijk gevolg zijn?

- A Aids
- B Chlamydia
- C Genitale wratten
- D Druiper/Gonorroe
- E Hepatitis B

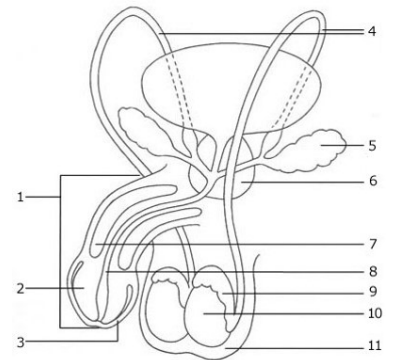
6. Paragraaf 12.1 In welk genummerd orgaan rijpen de eicellen?

- A 1
- B 2
- C 3
- D 4
- E 5



7. Paragraaf 12.1 Welke van de genummerde organen produceert/producteren zaadvocht?

- A 1
- B 5
- C 6
- D 9
- E 10



8. Paragraaf 12.1 Bron 9 De menstruatiecyclus wordt geregeld door hormonen, oestrogeen en progesteron. Wat gebeurt er wanneer de hoeveelheid oestrogeen enorm toeneemt?

- A Het zorgt voor verder doorbloeden van het baarmoederslijmvlies.
- B De menstruatie komt op gang en de cyclus begint opnieuw.
- C De hypofyse geeft een seintje voor de ovulatie.

9. Paragraaf 12.2 Bekijk de afbeelding en benoem de naam van het proces dat is afgebeeld en daaronder welk voorbehoedmiddel dit proces voorkomt.

- A Eijsprong/ ovulatie
- B Bevruchting
- C Innesteling
- D Spiraaltje
- E Condoom
- F Pil

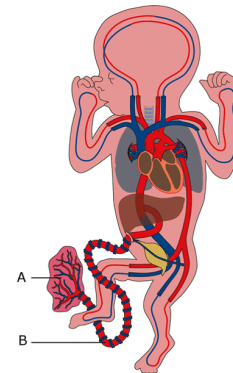


10. Paragraaf 12.2 Marieke heeft seks gehad met haar vriend. Het condoom scheurde nog voordat haar vriend klaarkwam. Vorige week was ze nog ongesteld. Wat adviseer jij Marieke?

- A Niets, haar vriend is niet klaargekomen dus er is niets aan de hand.
- B Niets, ze kan pas 14 dagen na de start van haar menstruatiecyclus zwanger worden.
- C Je adviseert haar een afspraak te maken bij de abortuskliniek om de eventuele embryo uit haar baarmoeder weg te laten halen.
- D Je stuurt haar naar de apotheek om een morning-afterpil te halen.

11. Paragraaf 12.3 Bekijk de afbeelding. Wat wordt er met de letter B (wijst naar rood) aangeduid?

- A De navelstrengader
- B De navelstrengslagader
- C De placenta
- D De moederkoek



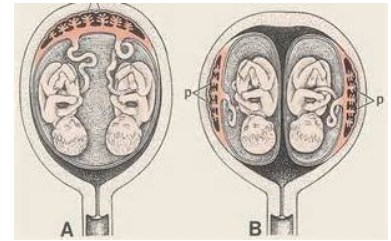
12. Paragraaf 12.3 Zet onderstaande letters op volgorde.

- A. Ontsluiting
- B. Nageboorte
- C. Indaling
- D. Uitdrijving
- E. Weeën

- A E-A-C-D-B
- B E-C-A-D-B
- C A-C-E-D-B
- D A-D-C-B-E
- E C-E-A-B-D

13. Paragraaf 12.3 In de afbeelding zie je een eeneiige tweeling. Deze tweeling ontstaat uit één eicel en één zaadcel die zijn gesplitst. Bij één procent van de eeneiige tweelingen vindt de splitsing pas plaats na de innesteling. Wat is hiervan het gevolg?

- A Afbeelding A het is een meisje en een jongen
- B Afbeelding A het zijn twee baby's van hetzelfde geslacht
- C Afbeelding B het wordt alsnog een twee-eiige tweeling
- D Afbeelding B het zijn twee baby's van hetzelfde geslacht



14. Bij welke paragrafen heb jij nog veel fouten gemaakt in de toets? Er zijn meerdere opties mogelijk. Klik alle paragrafen aan waarbij je 2 of meer vragen fout had.

- A Paragraaf 8.2 vragen over "de puberteit" en "geslachtskenmerken"
- B Paragraaf 8.4 vragen over "Soa's" en "veilig vrijen"
- C Paragraaf 12.1 vragen over "voortplantingsorganen" en de "menstruatie"
- D Paragraaf 12.2 vragen over "bevruchting" en "Zwangerschap"
- E Paragraaf 12.3 vragen over "de foetus", "de bevalling" en "tweelingen"
- F Ik heb in 1 of meerdere paragrafen maar 1 foutje gemaakt
- G Ik heb nul fouten gemaakt

15. Wat moet jij nog doen ter voorbereiding op je toets? Er zijn meerdere opties mogelijk. Klik alles aan wat jij nog moet doen. A, B, C en D zijn essentieel voor een voldoende toetsresultaat. E, F en G kunnen je helpen bij het verbeteren van je toetsresultaten. Kruis eerst al je keuzes aan voordat je verder klikt.

- A Ik ga nog opdrachten maken in mijn werkboek want ik heb niet alles af.
- B Ik ga nog opgaven nakijken in mijn werkboek, ik heb nog niet alles nagekeken.
- C Ik ga nog eens alle bronnen goed leren.
- D Ik doe vwo en wil paragraaf 8.5 nog een keer goed lezen en leren.
- E Ik ga in mijn werkboek "de samenvatting" maken (blz 85 en 86)
- F Ik ga zelf een samenvatting maken waarin ik de centrale vragen in het boek zo goed mogelijk zelf probeer te beantwoorden en uit te leggen.

16. Wat ga jij de komende les doen ter voorbereiding op je repetitie. Schrijf jouw gekozen antwoorden in je werkmapje! Dan weet je precies wat je komende les gaat doen.

- A Herhalen, ik heb meer dan 4 fouten, ik ga een begrippenlijst maken.
- B Herhalen, ik heb meer dan 4 fouten, ik ga een samenvatting maken.
- C Ik ga oefenen met het beantwoorden van de open vragen die de docent heeft klaargelegd, omdat ik minder dan 4 fouten had.
- D Ik ga oefenen met het beantwoorden van de IT-vragen die de docent heeft klaargelegd, omdat ik minder dan 4 fouten had.