

5.1 Elektrische stroom en spanning

Opgave 1

- a Alleen elektronen kunnen zich verplaatsen en niet de positief geladen kern. Omdat de lading van Riemer positief is, is hij negatief geladen elektronen kwijtgeraakt.
- b Je berekent het aantal elektronen door de totale lading te delen door de lading van het elektron.

De lading van een elektron is $1,602 \cdot 10^{-19}$ C.

Het aantal elektronen is dus gelijk aan $\frac{3,7 \cdot 10^{-10}}{1,602 \cdot 10^{-19}} = 2,30 \cdot 10^9$

Riemer is $2,3 \cdot 10^9$ elektronen kwijtgeraakt.

- c De richting van de stroom is altijd gelijk aan de richting waarin positieve lading beweegt.

Tijdens de ontlading bewegen negatief geladen elektronen van de deurkruk naar Riemer.

De richting van de stroom is dus de andere kant op: in de richting van de deurkruk.

- d De stroomsterkte bereken je met de stroomsterkte en lading.

$$I = \frac{Q}{\Delta t}$$

$$Q = 3,7 \cdot 10^{-10} \text{ C}$$

$$\Delta t = 12 \text{ ns} = 12 \cdot 10^{-9} \text{ s (Afstemmen eenheden)}$$

$$I = \frac{3,7 \cdot 10^{-10}}{12 \cdot 10^{-9}}$$

$$I = 0,0308 \text{ A}$$

$$\text{Afgerond: } I = 0,031 \text{ A}$$

Opgave 2

- a Het aantal chroomatomen bereken je met de massa van de chroomatomen en de massa van één chroomatoom.

Het aantal atomen is gelijk aan $\frac{1,2 \cdot 10^{-3}}{8,6 \cdot 10^{-26}} = 1,39 \cdot 10^{22}$

Er zijn $1,4 \cdot 10^{22}$ atomen neergeslagen.

- b De stroomsterkte bereken je met de lading en de tijd.
De lading is de lading van alle atomen samen.

Er zijn $1,4 \cdot 10^{22}$ ionen getransporteerd.

Ieder ion heeft lading van $3+$.

De totale lading is dan $1,4 \cdot 10^{22} \times 3 \times 1,602 \cdot 10^{-19} = 6,72 \cdot 10^3 \text{ C}$.

$$I = \frac{Q}{\Delta t}$$

$$Q = 6,72 \cdot 10^3 \text{ C}$$

$$\Delta t = 1,52 \text{ h} = 5400 \text{ s (Afstemmen eenheden)}$$

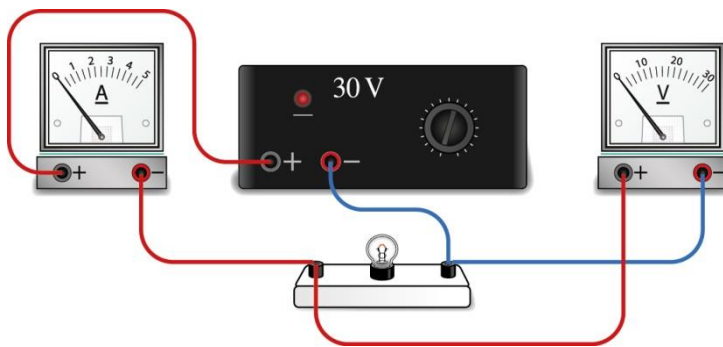
$$I = \frac{6,72 \cdot 10^3}{5400}$$

$$I = 1,24 \text{ A}$$

$$\text{Afgerond: } I = 1,2 \text{ A}$$

Opgave 3

Zie figuur 5.1.

**Figuur 5.1****Opgave 4**

De stroomsterkte bereken je met lading en tijd.

De lading bereken je met spanning en elektrische energie.

$$U = \frac{\Delta E}{Q}$$

$$U = 43,2 \text{ V}$$

$$\Delta E = 3,6 \text{ MJ} = 3,6 \cdot 10^6 \text{ J (Afstemmen eenheden)}$$

$$43,2 = \frac{3,6 \cdot 10^6}{Q}$$

$$Q = 8,33 \cdot 10^4 \text{ C}$$

$$I = \frac{Q}{\Delta t}$$

$$Q = 8,33 \cdot 10^4 \text{ C}$$

$$\Delta t = 30 \text{ min} = 1800 \text{ s (Afstemmen eenheden)}$$

$$I = \frac{8,33 \cdot 10^4}{1800}$$

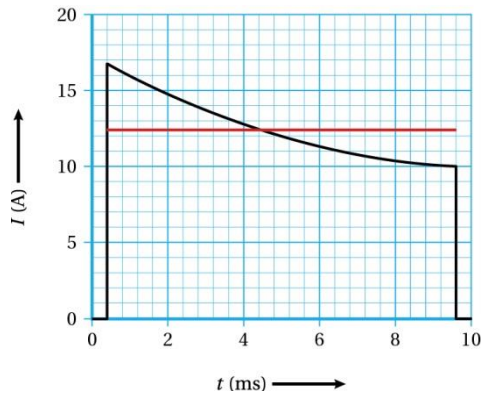
$$I = 46,3 \text{ A}$$

$$\text{Afgerond: } I = 46 \text{ A}$$

Opgave 5

- a De lading volgt uit de oppervlakte onder de (I, t) -grafiek.

Je tekent eerst de lijn die de gemiddelde stroomsterkte aangeeft tussen $t = 0,4$ en $t = 9,6$ s.
Zie figuur 5.2.



Figuur 5.2

De oppervlakte onder de rode lijn is gelijk aan:

$$Q = 12,4 \times (9,6 \cdot 10^{-3} - 0,4 \cdot 10^{-3})$$

$$Q = 0,114 \text{ C}$$

$$\text{Afgerond: } Q = 0,11 \text{ C}$$

- b De gemiddelde spanning bereken je met de spanning en de energie.

$$U = \frac{\Delta E}{Q}$$

$$Q = 0,11 \text{ C}$$

$$\Delta E = 0,13 \text{ kJ} = 0,13 \cdot 10^3 \text{ J (Afstemmen eenheden)}$$

$$U = \frac{0,13 \cdot 10^3}{0,11}$$

$$U = 1,18 \cdot 10^3 \text{ V}$$

$$\text{Afgerond } U = 1,2 \cdot 10^3 \text{ V}$$

5.2 Weerstand en geleiding**Opgave 6**

- a De weerstand van het materiaal bereken je met de wet van Ohm.

$$U = R \cdot I$$

$$U = 6,0 \text{ V}$$

$$I = 0,24 \text{ A}$$

$$6,0 = R \times 0,24$$

$$R = 25,0 \Omega$$

$$\text{Afgerond: } R = 25 \Omega$$

- b De geleidbaarheid bereken je met spanning en stroomsterkte.

$$I = G \cdot U$$

$$U = 6,0 \text{ V}$$

$$I = 0,42 \text{ A}$$

$$0,42 = G \times 6,0$$

$$G = 0,0700 \text{ S}$$

$$\text{Afgerond: } G = 7,0 \cdot 10^{-2} \text{ S}$$

Opgave 7

- a De weerstand bereken je met de formule voor de weerstand van een draad.
De doorsnede bereken je met de diameter.

$$A = \frac{1}{4} \pi d^2$$

$$d = 0,25 \text{ mm} = 0,25 \cdot 10^{-3} \text{ m (Afstemmen eenheden)}$$

$$A = \frac{1}{4} \pi (0,25 \cdot 10^{-3})^2$$

$$A = 4,90 \cdot 10^{-8} \text{ m}^2$$

$$R = \rho \frac{\ell}{A}$$

$$\rho = 55 \cdot 10^{-9} \Omega \text{ m}$$

$$\ell = 2,0 \text{ m}$$

$$R = 55 \cdot 10^{-9} \times \frac{2,0}{4,90 \cdot 10^{-8}}$$

$$R = 2,24 \Omega$$

$$\text{Afgerond: } R = 2,2 \Omega.$$

- b Doordat er stroom loopt door de draad, wordt er elektrische energie omgezet in warmte. De temperatuur van de draad zal daardoor stijgen. De soortelijke weerstand van het materiaal neemt toe en daarmee ook de weerstand van de draad.
Doordat de spanning gelijk blijft, volgt uit de wet van Ohm dat de stroomsterkte afneemt als de weerstand toeneemt.

Opgave 8

De weerstand van een draad is recht evenredig met de lengte maar omgekeerd evenredig met de dwarsdoorsnede.

De draad met de kleinste lengte en de grootste dwarsdoorsnede heeft dan de kleinste weerstand.
Dit is draad C.

De draad met de grootste lengte en de kleinste dwarsdoorsnede heeft dus de grootste weerstand.
Dit is draad B.

De volgorde is C, A, B.

Opgave 9

- a De diameter van de draad bereken je uit de dwarsdoorsnede van de draad.
De dwarsdoorsnede bereken je met de formule voor de weerstand van een draad.
De weerstand van de draad bereken je eerst met de wet van Ohm.

$$U = R \cdot I$$

$$U = 1,0 \text{ V}$$

$$I = 135 \text{ mA} = 0,135 \text{ A (Afstemmen eenheden)}$$

$$1,0 = R \times 0,135$$

$$R = 7,40 \Omega$$

$$R = \rho \frac{\ell}{A}$$

$$\rho = 55 \cdot 10^{-9} \Omega \text{ m}$$

$$\ell = 30 \text{ cm} = 0,30 \text{ m (Afstemmen eenheden)}$$

$$R = 7,40 \Omega$$

$$7,40 = 55 \cdot 10^{-9} \times \frac{0,30}{A}$$

$$A = 2,22 \cdot 10^{-9} \text{ m}^2$$

$$A = \frac{1}{4} \pi d^2$$

$$A = 2,22 \cdot 10^{-9} \text{ m}^2$$

$$2,22 \cdot 10^{-9} = \frac{1}{4} \pi d^2$$

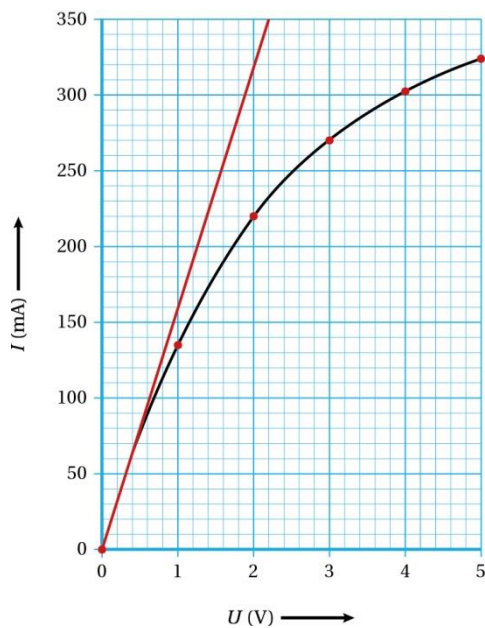
$$d = 5,32 \cdot 10^{-5} \text{ m}$$

$$\text{Afgerond: } d = 5,3 \cdot 10^{-5} \text{ m}$$

- b Doordat de gloeidraad in temperatuur stijgt, verandert de soortelijke weerstand van het wolfram. Boukje rekent met de soortelijke weerstand bij een temperatuur van 293 K. Ze krijgt daardoor een foutieve waarde voor de diameter. Het gemiddelde van de vijf waarden is dan ook fout.
- c Bij kleine spanningen en stroomsterktes is de temperatuurstijging van de draad erg klein. Deze heeft een verwaarloosbare invloed op de soortelijke weerstand. De weerstand van de draad is dan constant; het verband tussen de spanning en stroomsterkte is recht evenredig.

Door een raaklijn te trekken, krijgt Elke het verband tussen spanning en stroomsterkte als de temperatuur van de draad constant blijft. De raaklijn komt overeen met de grafiek van een ohmse weerstand: de weerstand van de draad bij een temperatuur van 293 K.

- d De weerstand van de draad bij een temperatuur van 293 K met de spanning en de stroomsterkte.
Deze waarden bepaal je van een punt op de raaklijn. Zie figuur 5.3.



Figuur 5.3

$$U = R \cdot I$$

$$U = 2,2 \text{ V (Afl lezen uit figuur 5.3)}$$

$$I = 350 \text{ mA} = 0,350 \text{ A (Afl lezen uit figuur 5.3 en afstemmen eenheden)}$$

$$2,2 = R \times 0,350$$

$$R = 6,28 \ \Omega$$

$$R = \rho \frac{\ell}{A}$$

$$\rho = 55 \cdot 10^{-9} \ \Omega \cdot \text{m}$$

$$\ell = 30 \text{ cm} = 0,30 \text{ m (Afstemmen eenheden)}$$

$$R = 6,28 \ \Omega$$

$$6,28 = 55 \cdot 10^{-9} \times \frac{0,30}{A}$$

$$A = 2,62 \cdot 10^{-9} \text{ m}^2$$

$$A = \frac{1}{4} \pi d^2$$

$$A = 2,62 \cdot 10^{-9} \text{ m}^2$$

$$2,62 \cdot 10^{-9} = \frac{1}{4} \pi d^2$$

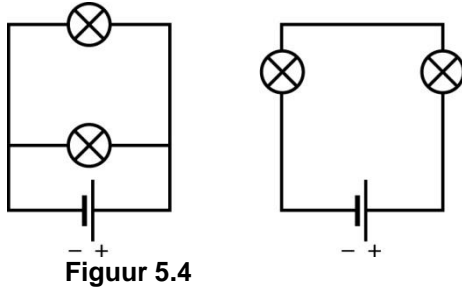
$$d = 5,78 \cdot 10^{-5} \text{ m}$$

$$\text{Afgerond: } d = 5,8 \cdot 10^{-5} \text{ m}$$

5.3 Serie- en parallelschakelingen

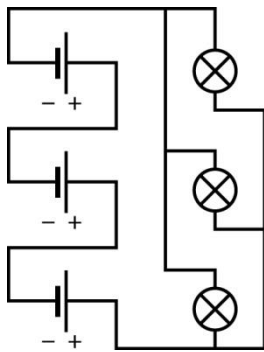
Opgave 10

a Zie figuur 5.4



Figuur 5.4

b Zie figuur 5.5



Figuur 5.5

Opgave 11

a Bij de spanningswet van Kirchhoff tel je spanningen in een kring bij elkaar op. Doorloop je een spanning van + naar – dan neem je de spanning positief; bij doorlopen van – naar + neem je de spanning negatief.

$$\sum_i U_i = 0$$

$$-U_{\text{bat},1} + U_{\text{bat},2} + U_L = 0$$

$$U_L = U_{\text{bat},1} - U_{\text{bat},2}$$

$$U_L = 9,0 - 1,5 = 7,5 \text{ V}$$

b In figuur 5.23b van het basisboek pas je de spanningswet van Kirchhoff toe op de linker kring.

$$\sum_i U_i = 0$$

$$-U_{\text{bat},1} + U_{\text{bat},2} = 0$$

$$U_{\text{bat},1} = U_{\text{bat},2}$$

Opgave 12

- a De weerstand van het lampje bereken je met de wet van Ohm toegepast op het lampje.
De spanning over het lampje volgt uit de spanningswet van Kirchhoff voor de linkerkring.

$$U_L = R_L \cdot I_L$$

$$U_L = 6,0 \text{ V}$$

$$I_L = 383 \text{ mA} = 0,383 \text{ A (Afstemmen eenheden)}$$

$$6,0 = R_L \times 0,383$$

$$R_L = 15,6 \Omega$$

$$\text{Afgerond: } R_L = 16 \Omega$$

- b De stroomsterkte door de weerstand volgt uit de stroomwet van Kirchhoff voor het bovenste knooppunt.

$$\sum_i I_i = 0$$

$$I_{\text{bron}} - I_L - I_R = 0$$

$$396 - 383 - I_R = 0$$

$$I_R = 13 \text{ mA}$$

- c De totale weerstand bereken je met de wet van Ohm toegepast op de gehele schakeling.

$$U_{\text{tot}} = R_{\text{tot}} \cdot I_{\text{tot}}$$

$$U_{\text{tot}} = U_{\text{bron}} = 6,0 \text{ V}$$

$$I_{\text{tot}} = I_{\text{bron}} = 396 \text{ mA} = 0,396 \text{ A (Afstemmen eenheden)}$$

$$6,0 = R_{\text{tot}} \times 0,396$$

$$R_{\text{tot}} = 15,1 \Omega$$

$$\text{Afgerond: } R_{\text{tot}} = 15 \Omega$$

- d De totale weerstand bereken je totale geleidbaarheid.
De totale geleidbaarheid in een parallelschakeling is de som van de afzonderlijke geleidbaarheden.
Een geleidbaarheid is het omgekeerde van de weerstand.

$$G_L = \frac{1}{R_L}$$

$$G_L = \frac{1}{16}$$

$$G_L = 0,0625 \text{ S}$$

$$G_R = \frac{1}{R}$$

$$G_R = \frac{1}{470}$$

$$G_R = 0,00212 \text{ S}$$

$$G_{\text{tot}} = G_L + G_R$$

$$G_{\text{tot}} = 0,0625 + 0,00212$$

$$G_{\text{tot}} = 0,0646 \text{ S}$$

$$G_{\text{tot}} = \frac{1}{R_{\text{tot}}}$$

$$0,0646 = \frac{1}{R_{\text{tot}}}$$

$$R_{\text{tot}} = 15,4 \Omega$$

$$\text{Afgerond: } R_{\text{tot}} = 15 \Omega$$

Opgave 13

- a De waarde van de weerstand bereken je met de wet van Ohm toegepast op de weerstand.
De spanning over de weerstand bereken je met de spanningswet van Kirchhoff.

$$\sum_i U_i = 0$$

$$-U_{\text{bron}} + U_R + U_L = 0$$

$$-4,5 + U_R + 3,0 = 0$$

$$U_R = 1,5 \text{ V}$$

$$U_R = R \cdot I_R$$

$$U_R = 1,5 \text{ V}$$

$$I_R = 125 \text{ mA} = 0,125 \text{ A (Afstemmen eenheden)}$$

$$1,5 = R \times 0,125$$

$$R = 12,0 \Omega$$

Afgerond: $R = 12 \Omega$

- b De totale weerstand bereken je met de wet van Ohm toegepast op de gehele schakeling.

$$U_{\text{tot}} = R_{\text{tot}} \cdot I_{\text{tot}}$$

$$U_{\text{tot}} = U_{\text{bron}} = 4,5 \text{ V}$$

$$I_{\text{tot}} = I_{\text{bron}} = 125 \text{ mA} = 0,125 \text{ A (Afstemmen eenheden)}$$

$$4,5 = R_{\text{tot}} \times 0,125$$

$$R_{\text{tot}} = 36,0 \Omega$$

Afgerond: $R_{\text{tot}} = 36 \Omega$

- c De totale weerstand bereken je met de regel voor weerstand in een serieschakeling.
De weerstand van het lampje bereken je met de wet van Ohm toegepast op het lampje.

$$U_L = R_L \cdot I_L$$

$$U_L = 3,0 \text{ V}$$

$$I_L = 125 \text{ mA} = 0,125 \text{ A (Afstemmen eenheden)}$$

$$3,0 = R_L \times 0,125$$

$$R_L = 24,0 \Omega$$

$$R_{\text{tot}} = R + R_L$$

$$R = 12 \Omega$$

$$R_L = 24,0 \Omega$$

$$R_{\text{tot}} = 12 + 24,0$$

$$R_{\text{tot}} = 36,0 \Omega$$

Afgerond: $R_{\text{tot}} = 36 \Omega$

Opgave 14

De waarde van weerstand R_2 bereken je met de wet van Ohm toegepast op weerstand R_2 .

De spanning over weerstand R_2 volgt uit de spanningswet van Kirchhoff voor de rechter kring.

De spanning over de weerstand van 100Ω volgt uit de wet van Ohm toegepast op de weerstand van 100Ω .

De stroomsterkte door de weerstand van 100Ω volgt uit de stroomwet van Kirchhoff voor het bovenste knooppunt.

$$\sum_i I_i = 0$$

$$I_{\text{bron}} - I_R - I_{100} = 0$$

$$I_{\text{bron}} = 0,25 \text{ A}$$

$$I_R = 0,14 \text{ A}$$

$$0,25 - 0,14 - I_{100} = 0$$

$$I_{100} = 0,11 \text{ A}$$

$$U_{100} = R \cdot I_{100}$$

$$R = 100 \Omega$$

$$I_{100} = 0,11 \text{ A}$$

$$U_{100} = 100 \times 0,11$$

$$U_{100} = 11,0 \text{ V}$$

$$\sum_i U_i = 0$$

$$-U_R + U_{100} = 0$$

$$U_{100} = 11,0 \text{ V}$$

$$-U_R + 11,0 = 0$$

$$U_R = 11,0 \text{ V}$$

$$U_R = R_2 \cdot I_R$$

$$U_R = 11,0 \text{ V}$$

$$I_R = 0,14 \text{ A}$$

$$11,0 = R_2 \times 0,14$$

$$R_2 = 78,5 \Omega$$

$$\text{Afgerond: } R_2 = 79 \Omega$$

Opgave 15

Het verband leid je af, uitgaande van de regel voor spanningen in een parallelschakeling.

De spanningen herschrijf je met behulp van de wet van Ohm.

Daarna maak je gebruik van de gegeven verhouding van de weerstanden.

$$U_A = U_B = U_C$$

$$R_A \cdot I_A = R_B \cdot I_B = R_C \cdot I_C$$

$$R_A = 3R_C \text{ en } 2R_B = 3R_C$$

Dit levert:

$$3R_C \cdot I_A = \frac{3}{2}R_C \cdot I_B = R_C \cdot I_C$$

Delen door R_C geeft:

$$3I_A = \frac{3}{2} \cdot I_B = I_C$$

Opgave 16

Het verband leid je af, uitgaande van de regel voor stroomsterkte in een serieschakeling. De stroomsterkte herschrijf je met behulp van de wet van Ohm.

$$I_A = I_B$$

Uit $U = I \cdot R$ volgt $I = \frac{U}{R}$

Dus er geldt:

$$\frac{U_A}{R_A} = \frac{U_B}{R_B}$$

$$\frac{U_A}{U_B} = \frac{R_A}{R_B}$$

Opgave 17

a Het verband leid je af met de regel voor totale weerstand bij een serieschakeling.

$$R_{\text{tot}} = R_A + R_B$$

De som van de weerstanden is altijd groter dan een van de aparte weerstanden.

$$R_{\text{tot}} > R_A \text{ en } R_{\text{tot}} > R_B$$

b Het verband leid je af met de regel voor totale geleidbaarheid bij een parallelschakeling. Daarna maak je gebruik van het verband tussen geleidbaarheid en weerstand.

$$G_{\text{tot}} = G_A + G_B$$

De som van de geleidbaarheden is altijd groter dan iedere geleidbaarheid apart.

$$G_{\text{tot}} > G_A \text{ en } G_{\text{tot}} > G_B$$

Aangezien er een omgekeerd verband geldt tussen geleidbaarheid en weerstand geldt:

$$\frac{1}{R_{\text{tot}}} > \frac{1}{R_A} \text{ en } \frac{1}{R_{\text{tot}}} > \frac{1}{R_B}$$

Hieruit volgt:

$$R_A > R_{\text{tot}} \text{ en } R_B > R_{\text{tot}}$$

5.4 Gemengde schakelingen

Opgave 18

De vervangingsweerstand R_{tot} bereken je met de regels van een serieschakeling toegepast op de weerstand van $22 \text{ k}\Omega$ en de vervangingsweerstand van de combinatie van $47 \text{ k}\Omega$ en $18 \text{ k}\Omega$.

De vervangingsweerstand van deze combinatie bereken je met de regel voor geleidbaarheid van een parallelschakeling.

Volgens de regels van een parallelschakeling geldt voor de geleidbaarheid:

$$G_{\text{tot},12} = G_{47} + G_{18}.$$

$$G_{47} = \frac{1}{47 \cdot 10^3}$$

$$G_{18} = \frac{1}{18 \cdot 10^3}$$

$$G_{\text{tot},12} = \frac{1}{47 \cdot 10^3} + \frac{1}{18 \cdot 10^3}$$

$$G_{\text{tot},12} = 7,68 \cdot 10^{-5} \text{ S}$$

$$R_{\text{tot},12} = \frac{1}{7,68 \cdot 10^{-5}}$$

$$R_{\text{tot},12} = 13,0 \cdot 10^3 \Omega = 13,0 \text{ k}\Omega$$

$$R_{\text{tot}} = R_{\text{tot},12} + R_{22}$$

$$R_{\text{tot},12} = 13,0 + 22$$

$$R_{\text{tot},12} = 35 \text{ k}\Omega$$

Opgave 19

- a De spanning over R_1 bereken je met de spanningswet van Kirchhoff toegepast op de buitenste kring.

$$\sum_i U_i = 0$$

$$-U_{\text{bron}} + U_1 + U_L = 0$$

$$U_{\text{bron}} = 12,0 \text{ V}$$

$$U_L = 4,5 \text{ V}$$

$$-12,0 + U_1 + 4,5 = 0$$

$$U_1 = 7,5 \text{ V}$$

- b De stroomsterkte door het lampje bereken je met de stroomwet van Kirchhoff toegepast op het bovenste knooppunt.

De stroomsterkte door een weerstand bereken je met de wet van Ohm.

$$U_1 = R_1 \cdot I_1$$

$$R_1 = 56 \Omega$$

$$U_1 = 7,5 \text{ V (Zie antwoord vraag a)}$$

$$7,5 = 56 \times I_1$$

$$I_1 = 0,133 \text{ A}$$

$$U_2 = R_2 \cdot I_2$$

$$R_2 = 330 \Omega$$

$$U_2 = U_L = 4,5 \text{ V (parallelschakeling)}$$

$$4,5 = 330 \times I_1$$

$$I_1 = 0,0136 \text{ A}$$

$$\sum_i I_i = 0$$

$$I_1 - I_2 - I_L = 0$$

$$I_1 = 0,133 \text{ A}$$

$$I_2 = 0,0136 \text{ A}$$

$$0,133 - 0,0136 - I_L = 0$$

$$I_L = 0,120 \text{ A}$$

$$\text{Afgerond: } I_L = 0,12 \text{ A}$$

Opgave 20

- a De spanning over weerstand R_2 bereken je met de wet van Ohm.
De stroomsterkte in een serieschakeling is op elk plaats dezelfde.
De stroomsterkte bereken je met de wet van Ohm toegepast op de gehele schakeling.
De totale weerstand bereken je met de regel voor de totale weerstand van een serieschakeling.

$$R_{\text{tot}} = R_1 + R_2$$

$$R_1 = 22 \Omega$$

$$R_2 = 33 \Omega$$

$$R_{\text{tot}} = 22 + 33$$

$$R_{\text{tot}} = 55 \Omega$$

$$U_{\text{tot}} = R_{\text{tot}} \cdot I_{\text{tot}}$$

$$R_{\text{tot}} = 55 \Omega$$

$$U_{\text{tot}} = U_{\text{bron}} = 10 \text{ V}$$

$$10 = 55 \times I_{\text{tot}}$$

$$I_{\text{tot}} = 0,181 \text{ A}$$

In een serieschakeling is de stroomsterkte door iedere weerstand gelijk aan de totale stroomsterkte.

$$U_2 = R_2 \cdot I_2$$

$$R_2 = 33 \Omega$$

$$I_2 = 0,181 \text{ A}$$

$$U_2 = 33 \times 0,181$$

$$U_2 = 6,00 \text{ V}$$

$$\text{Afgerond: } U_2 = 6,0 \text{ V}$$

- b Als er een lampje wordt aangesloten tussen A en B, vormen de weerstand R_2 en het lampje een parallelschakeling. In een parallelschakeling is de totale geleidbaarheid altijd groter dan de geleidbaarheid van één van de afzonderlijke weerstanden. Dan is de totale weerstand tussen A en B kleiner.
De totale weerstand in de stroomkring wordt dan kleiner en de stroomsterkte wordt groter.
De stroomsterkte door weerstand R_1 wordt dus ook groter en de spanning U_1 ook. De spanning tussen A en B is gelijk aan de bronspanning minus de spanning U_1 . De spanning tussen A en B wordt dus kleiner dan 6,0 V.

Opgave 21

In een serieschakeling is de totale weerstand altijd groter dan één van de afzonderlijke weerstanden. In schakeling A is de totale weerstand gelijk aan de som van alle drie weerstanden en is dus het grootst. Deze totale weerstand is $R_1 + R_2 + R_3$.

In een parallelschakeling is de totale geleidbaarheid altijd groter dan de geleidbaarheid van één van de afzonderlijke weerstanden. De totale geleidbaarheid van schakeling B is de som van alle geleidbaarheden. De totale geleidbaarheid is dus het grootst en schakeling B heeft dus de kleinste totale weerstand. Deze totale weerstand is dus kleiner dan R_1 .

In schakeling C is R_3 in serie geschakeld met een parallelschakeling van R_1 en R_2 . De totale weerstand is dan groter dan R_3 , maar kleiner dan $R_3 + R_1$ of $R_3 + R_2$.

In schakeling D is R_3 parallel geschakeld met een serieschakeling van R_1 en R_2 . De weerstand van de bovenste tak is dus $R_1 + R_2$. De totale geleidbaarheid van deze tak is kleiner dan de geleidbaarheid van alleen R_1 of alleen R_2 .

De totale geleidbaarheid is dus kleiner dan de totale geleidbaarheid van schakeling B. De totale weerstand is dan groter dan de totale weerstand van schakeling B, maar kleiner dan R_3 .

De volgorde is B, D, C, A.

5.5 Elektrische componenten

Opgave 22

- a Bij een spanning groter dan 1,5 V neemt de stroomsterkte door de LED toe. De doorlaatspanning is dus de spanning waarbij de LED begint te geleiden.
- b De spanning van de bron volgt uit de regel voor spanning in een serieschakeling. De spanning over de LED volgt uit het diagram. De spanning over de weerstand bereken je met de wet van Ohm. De stroomsterkte is bij een serieschakeling op elke plaats in de schakeling even groot.

$$U_R = R \cdot I_R$$

$$R = 50 \, \Omega$$

$$I_R = I_{LED} = 100 \text{ mA} = 0,100 \text{ A (Afstemmen eenheden)}$$

$$U_R = 50 \times 0,100$$

$$U_R = 5,00 \text{ V}$$

$$U_{bron} = U_R + U_{LED}$$

$$U_{LED} = 3,0 \text{ V (Aflezen uit figuur 5.47 van het basisboek)}$$

$$U_R = 5,00 \text{ V}$$

$$U_{bron} = 5,00 + 3,0$$

$$U_{bron} = 8,00 \text{ V}$$

$$\text{Afgerond: } U_{bron} = 8,0 \text{ V}$$

Opgave 23

- a Doordat er stroom loopt door de NTC, wordt er energie omgezet in warmte. De temperatuur van de NTC stijgt. Daardoor wordt de weerstand van de NTC kleiner. De stroomsterkte door de NTC zal dan groter worden, Doordat de spanning over de NTC gelijk blijft, volgt uit de wet van Ohm dat de stroomsterkte door NTC groter wordt als de weerstand afneemt.
- b De temperatuurstijging bepaal je in figuur 5.49 van het basisboek uit de verandering van de weerstand.
Een weerstand bereken je met de wet van Ohm toegepast bij twee stroomsterktes.

Voor het opwarmen:

$$U_{NTC} = R_{NTC} \cdot I_{NTC}$$

$$I_{NTC} = 0,15 \text{ A}$$

$$U_{NTC} = 30 \text{ V}$$

$$30 = R_{NTC} \times 0,15$$

$$R_{NTC} = 200 \, \Omega$$

Na het opwarmen:

$$U_{NTC} = R_{NTC} \cdot I_{NTC}$$

$$I_{NTC} = 0,75 \text{ A}$$

$$U_{NTC} = 30 \text{ V}$$

$$30 = R_{NTC} \times 0,75$$

$$R_{NTC} = 40 \, \Omega$$

De weerstand van de NTC neemt dus af van 200 Ω naar 40 Ω . Uit figuur 5.49 in het basisboek volgt dat de temperatuur is gestegen van 20 $^{\circ}\text{C}$ naar 40 $^{\circ}\text{C}$.
De temperatuurstijging is dus 20 $^{\circ}\text{C}$.

Opgave 24

- a Als de verlichtingssterkte toeneemt, neemt de afstand tussen de lamp en de LDR af. In figuur 5.50 van het basisboek zie je dat de weerstand van de LDR dan afneemt. De weerstand van de LDR neemt dus af als de verlichtingssterkte toeneemt.
- b De spanning over de weerstand R bereken je met de wet van Ohm volgens:

$$U_R = R \cdot I_R$$

De stroomsterkte door de weerstand R bereken je met de wet van Ohm toegepast op de gehele schakeling. Omdat dit een serieschakeling is, geldt:

$$I_R = \frac{U_{\text{bron}}}{R_{\text{LDR}} + R}$$

Voor de spanning U_R leidt dit tot:

$$U_R = \frac{R}{R_{\text{LDR}} + R} \cdot U_{\text{bron}}$$

Uit dit verband blijkt dat de spanning U_R het meest verandert bij een verandering van R_{LDR} als de weerstand R ongeveer net zo groot is als de R_{LDR} . De weerstand van de LDR varieert volgens figuur 5.50 in het basisboek tussen de 20Ω en 500Ω . De weerstand van 220Ω geeft dus de grootste gevoeligheid.

- c Als er meer licht op de LDR valt, dan neemt de weerstand van de LDR af. De totale weerstand wordt dan kleiner want weerstand R en de LDR vormen een serieschakeling. De stroomsterkte vanuit de bron wordt dan groter en dus ook door de weerstand R . Doordat de weerstand R gelijk blijft, wordt volgens de wet van Ohm de spanning over de weerstand groter als de stroomsterkte door weerstand R groter wordt.
- d In deze serieschakeling is de spanning over de LDR gelijk aan de bronspanning minus de spanning over de weerstand R . De spanning van de bron blijft gelijk en de spanning over de weerstand R neemt toe. De spanning over de LDR neemt dus af.
- e De spanning over de weerstand R neemt toe als de lichtsterkte toeneemt. Als de voltmeter dan over weerstand R is geplaatst, kun je zeggen dat als de waarde op de meter toeneemt de lichtsterkte ook toeneemt.
- f Bij vraag b is afgeleid dat geldt:

$$U_R = \frac{R}{R_{\text{LDR}} + R} \cdot U_{\text{bron}}$$

$$R = 220 \Omega$$

$$U_{\text{bron}} = 5,0 \text{ V}$$

$$U_R = 2,3 \text{ V}$$

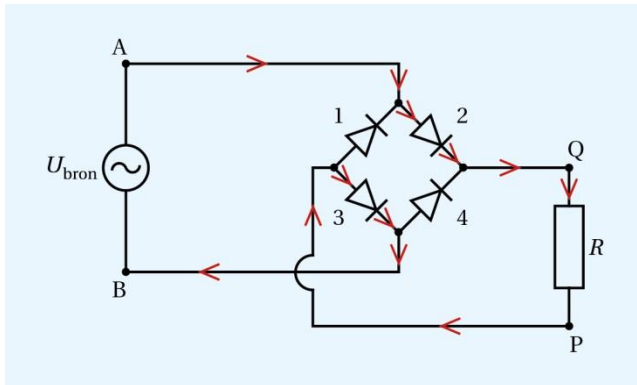
$$2,3 = \frac{220}{R_{\text{LDR}} + 220} \times 5,0$$

$$R_{\text{LDR}} = 258 \Omega$$

Uit figuur 5.50 van het basisboek volgt dat de afstand gelijk is aan $0,40 \text{ m}$.

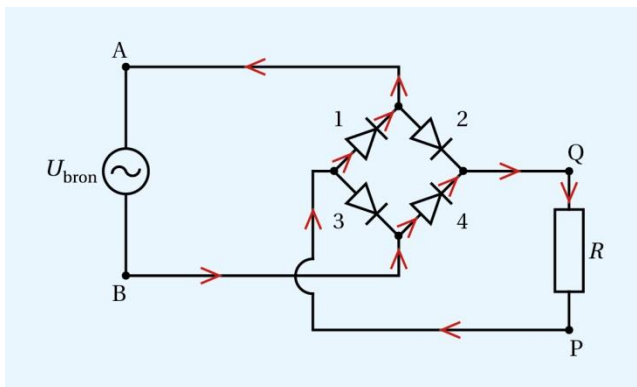
Opgave 25

- a Zie figuur 5.6.
De dioden 2 en 3 geleiden tussen 0 en 0,01 s.



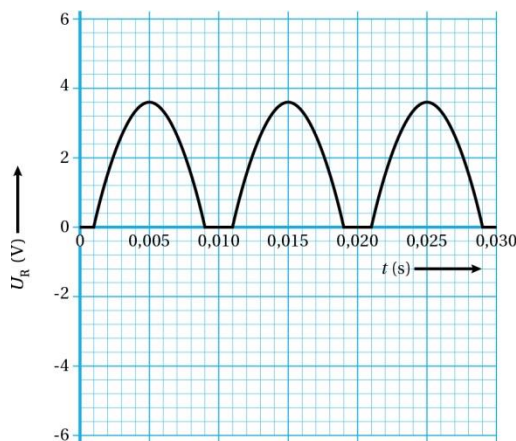
Figuur 5.6

- b De stroom gaat van Q naar P door weerstand R .
c Zie figuur 5.7.



Figuur 5.7

- d Ook nu gaat de stroom van Q naar P.
Zie figuur 5.8.
De dioden hebben een doorlaatspanning van 0,7 V. Er zijn altijd twee dioden die geleiden. De spanning tussen A en B moet dus minimaal 1,4 V zijn voordat er stroom door weerstand R loopt. De maximale spanning over weerstand R is dan ook 1,4 volt lager dan de maximale spanning tussen A en B.



Figuur 5.8

5.6 Energie in huis

Opgave 26

- a De vaartijd bereken je met de energie en het vermogen.

$$P = \frac{\Delta E}{\Delta t}$$

$$\Delta E = 3,6 \text{ MJ} = 1,0 \text{ kWh (Afstemmen eenheden)}$$

$$P = 4,0 \text{ kW}$$

$$4,0 = \frac{1,0}{\Delta t}$$

$$\Delta t = 0,250 \text{ h}$$

$$\text{Afgerond: } \Delta t = 0,25 \text{ h}$$

- b De stroomsterkte bereken je met het vermogen en de spanning.

$$P = U \cdot I$$

$$P = 4,0 \text{ kW} = 4,0 \cdot 10^3 \text{ W (Afstemmen eenheden)}$$

$$U = 43,2 \text{ V}$$

$$4,0 \cdot 10^3 = 43,2 \times I$$

$$I = 92,5 \text{ A}$$

$$\text{Afgerond: } I = 93 \text{ A}$$

- c Het rendement bereken je met het invallende stralingsvermogen en het afgegeven elektrische vermogen.

Het invallende stralingsvermogen bereken je uit de oppervlakte van de zonnecellen en het invallend vermogen per vierkante meter.

$$P_{\text{straling}} = 7,92 \times 1000$$

$$P_{\text{straling}} = 7920 \text{ W}$$

$$\eta = \frac{P_{\text{elek}}}{P_{\text{straling}}} \cdot 100\%$$

$$P_{\text{elek}} = 1750 \text{ W}$$

$$P_{\text{straling}} = 7920 \text{ W}$$

$$\eta = \frac{1750}{7920} \cdot 100\%$$

$$\eta = 22,0 \%$$

$$\text{Afgerond: } \eta = 22,0 \%$$

- d De oplaadtijd bereken je met het vermogen en de maximale energie die in de batterijen kan worden opgeslagen.

$$P = \frac{\Delta E}{\Delta t}$$

$$\Delta E = 3,6 \text{ MJ} = 3,6 \cdot 10^6 \text{ J (Afstemmen eenheden)}$$

$$P = 1750 \text{ W}$$

$$1750 = \frac{3,6 \cdot 10^6}{\Delta t}$$

$$\Delta t = 2,05 \cdot 10^3 \text{ s} = 0,571 \text{ h (Afstemmen eenheden)}$$

$$\text{Afgerond: } \Delta t = 0,57 \text{ h}$$

Opgave 27

Het rendement van de waterkoker bereken je met de ingaande energie en de nuttige energie.

De nuttige energie is de hoeveelheid energie die nodig is het water op te warmen. Deze bereken je met de formule voor de soortelijke warmte

De ingaande energie bereken je met het vermogen van de waterkoker en de tijd.

$$P = \frac{\Delta E}{\Delta t}$$

$$P = 2,0 \text{ kW} = 2,0 \cdot 10^3 \text{ W (Afstemmen eenheden)}$$

$$\Delta t = 4 \text{ min } 40 \text{ s} = 280 \text{ s (Afstemmen eenheden)}$$

$$2,0 \cdot 10^3 = \frac{\Delta E}{280}$$

$$\Delta E = 5,60 \cdot 10^5 \text{ J}$$

$$Q = m \cdot c \cdot \Delta T$$

$$m = 1,5 \text{ kg}$$

$$c = 4,18 \cdot 10^3 \text{ J/(kg}\cdot\text{K)}$$

$$\Delta T = 100 - 18 = 82 \text{ }^\circ\text{C} = 82 \text{ K}$$

$$Q = 1,5 \times 4,18 \cdot 10^3 \times 82$$

$$Q = 5,14 \cdot 10^5 \text{ J}$$

$$\eta = \frac{Q}{E_{\text{elek}}} \cdot 100\%$$

$$Q = 5,14 \cdot 10^5 \text{ J}$$

$$E_{\text{elek}} = 5,60 \cdot 10^5 \text{ J}$$

$$\eta = \frac{5,14 \cdot 10^5}{5,60 \cdot 10^5} \times 100\%$$

$$\eta = 91,8 \%$$

$$\text{Afgerond: } \eta = 92 \%$$

Opgave 28

a De energie die per seconde in de kabel wordt omgezet in warmte bereken je met weerstand van en de stroomsterkte in een kabel.

De weerstand van de kabel bereken je met de formule voor de soortelijke weerstand.

De doorsnede van de draad bereken je met de diameter.

De stroomsterkte door de kabel is in deze serieschakeling gelijk aan de stroomsterkte in de motor. De stroomsterkte door de pomp bereken je met het vermogen van de pomp en de spanning over de pomp.

$$P_{\text{pomp}} = U_{\text{pomp}} \cdot I_{\text{pomp}}$$

$$P = 2,2 \text{ kW} = 2,2 \cdot 10^3 \text{ W (Afstemmen eenheden)}$$

$$U = 230 \text{ V}$$

$$2,2 \cdot 10^3 = 230 \times I_{\text{pomp}}$$

$$I_{\text{pomp}} = 9,56 \text{ A}$$

$$A = \frac{1}{4} \pi d^2$$

$$d = 0,75 \text{ mm} = 0,75 \cdot 10^{-3} \text{ m (Afstemmen eenheden)}$$

$$A = \frac{1}{4} \pi (0,75 \cdot 10^{-3})^2$$

$$A = 4,41 \cdot 10^{-7} \text{ m}^2$$

$$R = \rho \frac{\ell}{A}$$

$$\rho = 17 \cdot 10^{-9} \Omega \text{ m}$$

$$\ell = 2 \times 50 = 100 \text{ m (Er zijn twee aders in serie geschakeld)}$$

$$A = 4,41 \cdot 10^{-7} \text{ m}^2$$

$$R = 17 \cdot 10^{-9} \times \frac{100}{4,41 \cdot 10^{-7}}$$

$$R = 3,84 \Omega$$

$$P_{\text{draad}} = R \cdot I_{\text{draad}}^2$$

$$R = 3,84 \Omega$$

$$I_{\text{draad}} = I_{\text{pomp}} = 9,56 \text{ A}$$

$$P_{\text{draad}} = 3,84 \times 9,56^2$$

$$P_{\text{draad}} = 352 \text{ W}$$

$$\text{Afgerond: } P_{\text{draad}} = 3,5 \cdot 10^2 \text{ W}$$

- b De tijd bereken je met het vermogen en de energie voor een temperatuurstijging van 30 °C.

Er is 13 kJ nodig om de temperatuur 1 °C te laten stijgen. De temperatuur van de kabel stijgt 30 °C. Er is dan $30 \times 13 \text{ kJ} = 390 \text{ kJ}$ aan energie nodig.

$$P = \frac{\Delta E}{\Delta t}$$

$$\Delta E = 390 \text{ kJ} = 390 \cdot 10^3 \text{ J (Afstemmen eenheden)}$$

$$P = 3,5 \cdot 10^2 \text{ W}$$

$$3,5 \cdot 10^2 = \frac{390 \cdot 10^3}{\Delta t}$$

$$\Delta t = 11,1 \cdot 10^3 \text{ s} = 18,5 \text{ min (Afstemmen eenheden)}$$

$$\text{Afgerond: } \Delta t = 19 \text{ min}$$

- c Er is 390 kJ nodig om de temperatuur van 50 meter kabel 30 °C te laten stijgen. Omdat de kabel wordt gehalveerd, is er ook de helft van de energie nodig om de temperatuur van 25 meter kabel 30 °C te laten stijgen.

Omdat de lengte van de kabel wordt gehalveerd, wordt ook de lengte van de aders gehalveerd. De weerstand van de kabel wordt dan ook gehalveerd.

Doordat de weerstand van de kabel wordt gehalveerd, maar de stroomsterkte gelijk blijft, wordt ook de energie die per seconde wordt omgezet in warmte gehalveerd.

Omdat zowel de energie als het vermogen worden gehalveerd, blijft de tijdsduur gelijk.

5.7 De huisinstallatie

Opgave 29

- a Het maximale vermogen bereken je met de spanning en de stroomsterkte.

$$P = U \cdot I$$

$$U = 230 \text{ V}$$

$$I = 75 \text{ A}$$

$$P = 230 \times 75$$

$$P = 1,73 \cdot 10^4 \text{ W}$$

$$\text{Afgerond: } P = 1,7 \cdot 10^4 \text{ W}$$

- b Om te zien of alle apparaten tegelijk kunnen functioneren, vergelijk je de totale stroomsterkte met de maximale stroomsterkte van de zekering.

De totale stroomsterkte bereken je met het totale vermogen en de spanning.

$$P_{\text{tot}} = 75 + 150 + 250 + 100 + 850 + 2300$$

$$P_{\text{tot}} = 3725 \text{ W}$$

$$P_{\text{tot}} = U_{\text{tot}} \cdot I_{\text{tot}}$$

$$P_{\text{tot}} = 3725 \text{ W}$$

$$U_{\text{tot}} = 230 \text{ V}$$

$$3725 = 230 \times I_{\text{tot}}$$

$$I_{\text{tot}} = 16,1 \text{ A}$$

I_{tot} is groter dan 16 A. Niet alle apparaten kunnen tegelijk aanstaan.

Opgave 30

- a De totale kosten in een jaar bereken je met de prijs van 1 kWh en de hoeveelheid gebruikte energie in een jaar.

De hoeveelheid gebruikte energie in een jaar bereken je met het vermogen en de tijd.

$$P = \frac{\Delta E}{\Delta t}$$

$$P = 149 \text{ W} = 0,149 \text{ kW (Afstemmen eenheden)}$$

$$\Delta t = 13 \text{ h} \times 52 = 676 \text{ h (tijdsduur in een jaar)}$$

$$0,149 = \frac{\Delta E}{676}$$

$$\Delta E = 100,7 \text{ kWh}$$

1 kWh kost € 0,21. De totale kosten bedragen dus $100,7 \times € 0,21$.

De totale kosten zijn € 21,15.

- b In stand-by moet de televisie controleren of er op een knop van de afstandsbediening gedrukt wordt. Daarbij wordt dus energie gebruikt.

- c De verspilde energie bereken je met het vermogen in stand-by en de tijd per jaar in de stand-by.

De tijd per jaar in de stand-by bereken je met de tijd in een jaar en de tijd dat er tv wordt gekeken.

$$t_{\text{standby}} = t_{\text{jaar}} - t_{\text{tv}}$$

$$t_{\text{jaar}} = 365 \times 24 = 8760 \text{ uur}$$

$$t_{\text{tv}} = 676 \text{ uur}$$

$$t_{\text{standby}} = 8084 \text{ uur}$$

$$P = \frac{\Delta E}{\Delta t}$$

$$P = 0,20 \text{ W}$$

$$\Delta t = 8084 \text{ h} = 2,910 \cdot 10^7 \text{ s (Afstemmen eenheden)}$$

$$0,20 = \frac{\Delta E}{2,910 \cdot 10^7}$$

$$\Delta E = 5,82 \cdot 10^6 \text{ J}$$

$$\text{Afgerond } \Delta E = 5,8 \cdot 10^6 \text{ J}$$

Opgave 31

- a Om vast te stellen of je iets voelt, vergelijk je stroomsterkte waarbij je iets voelt met de stroomsterkte bij een spanning van 50 V onder droge omstandigheden. De stroomsterkte bij een spanning van 50 V onder droge omstandigheden bereken je met de wet van Ohm.

$$U = R \cdot I$$

$$R = 30 \text{ k}\Omega = 30 \cdot 10^3 \Omega \text{ (Afstemmen eenheden)}$$

$$U = 50 \text{ V}$$

$$50 = 30 \cdot 10^3 \times I$$

$$I = 1,66 \cdot 10^{-3} \text{ A} = 1,66 \text{ mA (Afstemmen eenheden)}$$

Deze stroomsterkte is groter dan 0,5 mA. Je voelt dus wel iets.

- b Om te controleren of de aardlekschakelaar altijd uitschakelt, vergelijk je de 'uitschakelstroomsterkte' met de stroomsterkte bij een spanning van 230 V onder droge omstandigheden. De stroomsterkte bij een spanning van 230 V onder droge omstandigheden bereken je met de wet van Ohm.

$$U = R \cdot I$$

$$R = 30 \text{ k}\Omega = 30 \cdot 10^3 \Omega \text{ (Afstemmen eenheden)}$$

$$U = 230 \text{ V}$$

$$230 = 30 \cdot 10^3 \times I$$

$$I = 7,66 \cdot 10^{-3} \text{ A} = 7,66 \text{ mA (Afstemmen eenheden)}$$

Deze stroomsterkte is kleiner dan 30 mA. De aardlekschakelaar zal de stroomkring nu niet onderbreken.

- c De maximale stroomsterkte bereken je met de wet van Ohm toegepast op de weerstand in de spanningszoeker. De stroomsterkte in de weerstand is het grootst als de spanning over de weerstand de spanning van het lichtnet is.

$$U = R \cdot I$$

$$R = 1,0 \text{ M}\Omega = 1,0 \cdot 10^6 \Omega \text{ (Afstemmen eenheden)}$$

$$U = 230 \text{ V}$$

$$230 = 10 \cdot 10^6 \times I$$

$$I_{\text{bron}} = 2,30 \cdot 10^{-4} \text{ A} = 0,23 \text{ mA (Afstemmen eenheden)}$$

Deze stroomsterkte is kleiner dan de stroomsterkte die je kunt voelen. Dus er kan geen gevaarlijke situatie ontstaan.

Opmerking

De weerstand in de spanningszoeker, het lampje en je lichaam vormen een serieschakeling. In de praktijk zal de totale weerstand groter zijn en de stroomsterkte dus nog kleiner.

5.8 Afsluiting

Opgave 32

- a De lengte van de draad bereken je met de formule voor de weerstand van een draad. De dwarsdoorsnede bereken je met de diameter.

$$A = \frac{1}{4} \pi d^2$$

$$d = 40 \mu\text{m} = 40 \cdot 10^{-6} \text{ m (Afstemmen eenheden)}$$

$$A = \frac{1}{4} \pi (40 \cdot 10^{-6})^2$$

$$A = 1,25 \cdot 10^{-9} \text{ m}^2$$

$$R = \rho \frac{\ell}{A}$$

$$\rho = 0,45 \cdot 10^{-6} \Omega \text{ m}$$

$$R = 350 \Omega$$

$$A = 1,25 \cdot 10^{-9} \text{ m}^2$$

$$350 = 0,45 \cdot 10^{-6} \times \frac{\ell}{1,25 \cdot 10^{-9}}$$

$$\ell = 0,977 \text{ m}$$

$$\text{Afgerond: } \ell = 0,98 \text{ m}$$

- b De lengte wordt groter, waardoor de weerstand toeneemt. Omdat de lengte groter wordt en het volume gelijk moet blijven, neemt de dwarsdoorsnede af. Omdat de dwarsdoorsnede kleiner wordt, neemt de weerstand toe.
- c Als het rekstrookje niet is uitgerekte, zijn de twee weerstanden gelijk. De spanning wordt dan gelijk verdeeld over de weerstanden en de spanningsmeter geeft 2,50 V aan.

Als de weerstand 1,0 Ω groter wordt, dan is de weerstand van het rekstrookje 351 Ω . De totale weerstand in de serieschakeling is dan 701 Ω .

$$U_{\text{bron}} = R_{\text{tot}} \cdot I_{\text{bron}}$$

$$R_{\text{tot}} = 701 \Omega$$

$$U_{\text{bron}} = 5,00 \text{ V}$$

$$5,00 = 701 \times I_{\text{bron}}$$

$$I_{\text{bron}} = 0,007132 \text{ A}$$

In een serieschakeling is de stroomsterkte door iedere weerstand gelijk aan de stroomsterkte uit de bron.

$$U_2 = R_2 \cdot I_2$$

$$R_2 = 350 \Omega$$

$$I_2 = 0,007132 \text{ A}$$

$$U_2 = 350 \times 0,007132$$

$$U_2 = 2,496 \text{ V}$$

$$\text{percentage} = \frac{2,50 - 2,496}{2,50} \times 100\%$$

$$\text{percentage} = 0,14 \%$$

Dit is inderdaad minder dan 0,5 %.

- d Als het rekstrookje niet is uitgerekte, dan is de spanning over weerstand R_2 gelijk aan 2,50 V. De spanning wordt ook gelijk verdeeld over de twee weerstanden van 10,0 k Ω . De spanning over de onderste weerstand van 10 k Ω is ook 2,50 V. De spanning tussen A en D en de spanning tussen B en D zijn dus gelijk. Door de spanningswet van Kirchhoff toe te passen op de kring ABDA, vind je dat de spanning tussen A en B 0,000 V is.

- e De spanning bepaal je met behulp van de weerstand van het rekstrookje in figuur 5.66 van het basisboek. De weerstand van het rekstrookje bepaal je met behulp van de uitrekking van het rekstrookje in figuur 5.67 van het basisboek.
De uitrekking van het rekstrookje bereken je met de uitrekking van de kabel.

De uitrekking van het rekstrookje bereken je met behulp van een verhoudingstabel. Zie tabel 5.1. Je moet de eenheden van uitrekking en de lengte op elkaar afstemmen.

	lengte	uitrekking
kabel	198 m	0,12 m
rekstrookje	6,1 cm	x

Tabel 5.1

Het rekstrookjerekt dan $\frac{0,12}{198} \times 6,1 = 3,69 \cdot 10^{-3}$ cm uit. Dit is 36,9 μm .

Uit figuur 5.67 van het basisboek blijkt dat de weerstand van het rekstrookje dan gelijk is aan 351,3 Ω .

In figuur 5.66 van het basisboek lees je af dat er dan een spanning wordt gemeten van 4,6 mV.

Het alarm gaat af bij een spanning van 4,6 mV.

Opgave 33

- a Het vermogen van het stopcontact bereken je met de spanning en de stroomsterkte.
De stroomsterkte bereken je met de wet van Ohm toegepast op de twee draden en bovenste verwarmingselement.
De totale weerstand bereken je in deze serieschakeling met de afzonderlijke weerstanden.

$$R_{\text{tot}} = 2 \times R_{\text{draad}} + R_{\text{element}}$$

$$R_{\text{tot}} = 2 \times 0,16 + 53,2$$

$$R_{\text{tot}} = 53,52 \Omega$$

$$U_{\text{tot}} = R_{\text{tot}} \cdot I_{\text{tot}}$$

$$R_{\text{tot}} = 53,52 \Omega$$

$$U_{\text{tot}} = U_{\text{bron}} = 230 \text{ V}$$

$$230 = 53,52 \times I_{\text{tot}}$$

$$I_{\text{tot}} = 4,297 \text{ A}$$

$$P_{\text{tot}} = U_{\text{tot}} \cdot I_{\text{tot}}$$

$$U_{\text{tot}} = 230 \text{ V}$$

$$I_{\text{tot}} = 4,297 \text{ A}$$

$$P_{\text{tot}} = 230 \times 4,297$$

$$P_{\text{tot}} = 988,4 \text{ W}$$

Afgerond: $P = 988 \text{ W}$

- b De overige 3 % is het warmtevermogen dat ontstaat in de aansluitdraden (en de behuizing van de kachel).
- c Door het inschakelen van het tweede element wordt de vervangingsweerstand van de twee elementen gehalveerd. De stroomsterkte wordt dan bijna 2 \times zo groot en het nuttige vermogen wordt ook vrijwel 2 \times zo groot.
De weerstand van de draden verandert niet en voor het vermogen dat in de aansluitdraden wordt omgezet in warmte geldt: $P_{\text{draad}} = R_{\text{draad}} \cdot I^2$. Omdat de weerstand van de draad niet verandert en de stroomsterkte bijna 2 \times zo groot wordt, wordt het warmtevermogen van de draad bijna 4 \times zo groot.
Het warmtevermogen in de draad stijgt sneller dan het nuttige vermogen en het rendement van de straalkachel wordt dus kleiner.