

Examen 2013

VMBO landbouw-breed bb

Minitoets bij opdracht 3 variant a

Deze minitoets bestaat uit 13 vragen.

Bekijk de vragen op het beeldscherm.

Beantwoord de vragen op het papieren antwoordblad.

Begin met het invullen van je naam en examennummer in de rechter bovenhoek op het papieren antwoordblad.

Beantwoord de vragen op de volgende wijze:

Meerkeuzevragen

Zet een kruisje bij het juiste antwoord.

- Amsterdam
- Eindhoven
- Rotterdam
- Utrecht

Open vragen

Vul het juiste antwoord in.

Hoeveel kost het opsturen van het pakket?

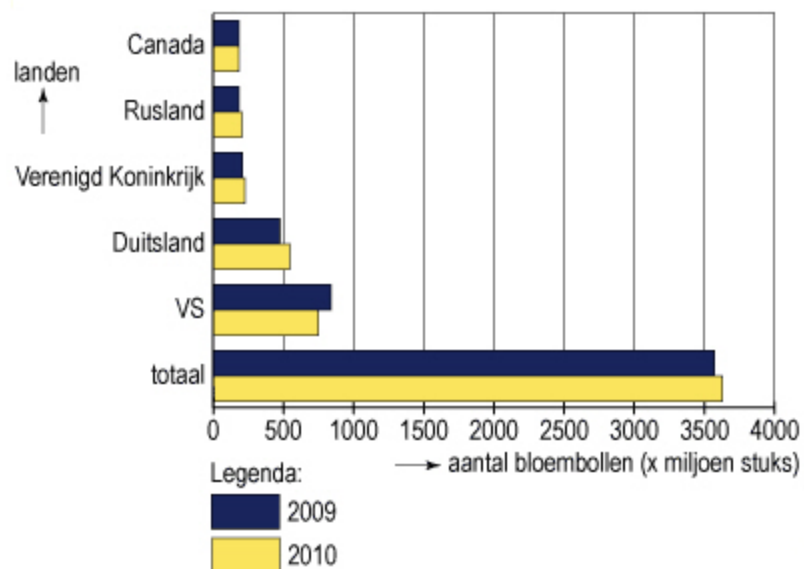
€ 6,30

Let op:

Als er bij een afbeelding de tekst staat *'Klik op de afbeelding om deze te vergroten.'* kijk dan verderop voor een vergroting van de afbeelding.



In de grafiek staat hoeveel bloembollen Nederland in totaal exporteert en hoeveel bloembollen naar vijf belangrijke exportlanden gaan.



Hier staan beweringen over de grafiek.

Welke beweringen zijn juist en welke zijn onjuist?

	juist	onjuist
In 2010 heeft Nederland meer bloembollen uitgevoerd dan in 2009.	<input type="radio"/>	<input type="radio"/>
Duitsland heeft in 2009 bijna 500 miljoen bloembollen ingevoerd vanuit Nederland.	<input type="radio"/>	<input type="radio"/>
In de VS zijn in 2010 meer bloembollen ingevoerd vanuit Nederland dan in 2009.	<input type="radio"/>	<input type="radio"/>



Hier staan uitspraken over import en export door Nederland.

Welke uitspraken gaan over import en welke over export door Nederland?

	import door Nederland	export door Nederland
kaas in Nederland maken en in Frankrijk verkopen	<input type="radio"/>	<input type="radio"/>
rozen in Afrika telen en in Nederland verkopen	<input type="radio"/>	<input type="radio"/>
eieren in Nederland produceren en in België verkopen	<input type="radio"/>	<input type="radio"/>

**Wat is een ecoduct?**

- een product afkomstig uit de ecologische landbouw
- een product met een EKO-keurmerk
- een viaduct dat op een milieuvriendelijke manier is gebouwd
- een viaduct voor in het wild levende dieren



Voor een bloemenwinkel ga je bloemen in water zetten en houdbaarheidsmiddel toevoegen. De aanbevolen dosering is 10 ml houdbaarheidsmiddel per liter water. Je vult emmers, met elk 6 liter water.

Hoeveel ml houdbaarheidsmiddel moet je per emmer toevoegen?

ml



Meneer Groenhof teelt tomaten en verkoopt deze ook aan consumenten.

Bij welke sectoren hoort het bedrijf van Groenhof?

- primaire en secundaire sector
- primaire en tertiaire sector
- secundaire en tertiaire sector
- secundaire en quataire sector



Elk tomatenteelpakket bevat een zakje met 40 zaden.

Hoeveel gram zaad moet er in één zakje als 1000 zaden 100 gram wegen?

gram



Een bloemenwinkel houdt van alle artikelen een voorraadkaart bij.
Hier staat de voorraadkaart van glazen tulpvazen.

voorraadkaart				
artikelnummer	omschrijving	naam leverancier		
135261	glazen tulpvaas 15 cm	Tibes bv		
maximumvoorraad		minimumvoorraad		
20		5		
besteleenheid		inkoopprijs		
5		3,50		
datum	omschrijving	bij	af	saldo
01-03-13	transport			19
14-03-13	verkopen		9	10
28-03-13	terugontvangen	1		11
11-04-13	verkopen		7	4

Als een medewerker de voorraad aanvult, streeft hij naar de maximale voorraad van de artikelen en let hij op de besteleenheid.
Het is 11 april 2013. De medewerker bestelt glazen tulpvazen.





Hoeveel besteleenheden moet hij bestellen?

besteleenheden



Met ingang van 1 januari 2012 is het niet meer toegestaan om legkippen te houden in een batterijhuisvesting.

Op welke van onderstaande afbeeldingen is een batterijhuisvesting te zien?





Er zijn mensen die graag duurzame energiebronnen gebruiken.

Welke energie is duurzaam?

- energie uit aardgas
- energie uit aardolie
- energie uit steenkool
- energie uit wind



Op de verpakking van een gewasbeschermingsmiddel staan twee veiligheidssymbolen.

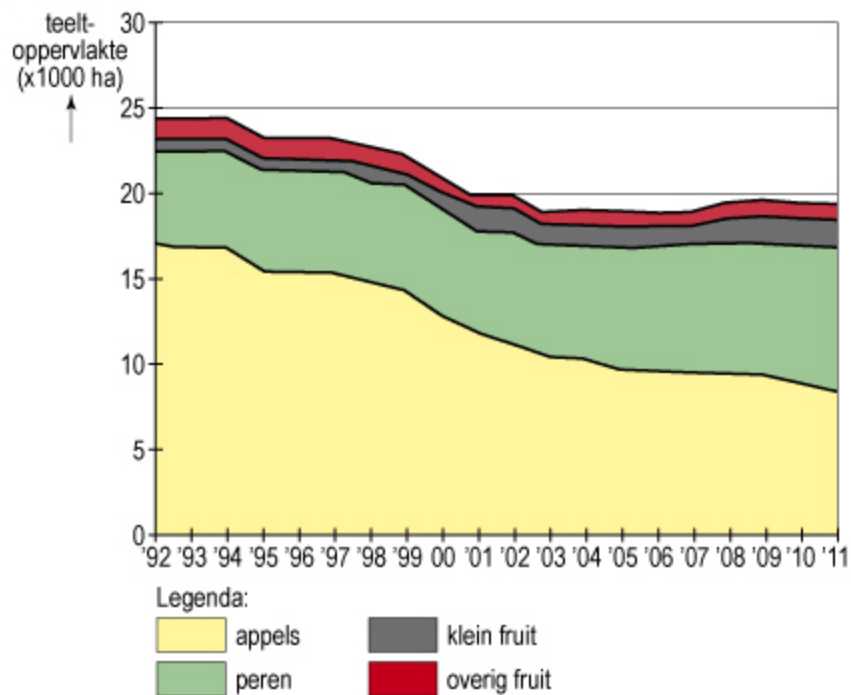


Wat betekenen de twee symbolen?

- giftig; bijtend en corrosief
- giftig; irriterend en schadelijk
- milieugevaarlijk; bijtend en corrosief
- milieugevaarlijk; irriterend en schadelijk



In de grafiek staat de grondoppervlakte voor fruitteelt in Nederland van 1992 tot 2011.



De teeltoppervlakte voor fruitteelt nam tussen 1992 en 2011 af.

Voor welk fruit nam de teeltoppervlakte het meeste af?

- voor appels
- voor klein fruit
- voor overig fruit
- voor peren



Dit logo betekent dat tuinbouwproducten zijn geteeld door een bedrijf dat milieubewust werkt.



Meneer Groenhof wil dit logo gebruiken.
Hij moet hiervoor een certificaat halen.

Wat is de meest doelmatige maatregel om dit certificaat te behalen?

- de kassen energiezuinig verwarmen
- minder teelthandelingen verrichten
- rassen kiezen waar veel vraag naar is
- seizoenarbeiders een goede huisvesting bieden



Een bloemist heeft een bestelling geplaatst bij een leverancier.

Welk formulier ontvangt hij als eerste terug van de leverancier?

- een orderbevestiging
- een pakbon
- een retourbon
- een vrachtbrief



Dit is het einde van de minitoets.

Je kunt nog terug om een antwoord te geven of te veranderen.

Als een vraag nog niet beantwoord is, heeft het vraagnummer een donkere kleur.

Klik op het vraagnummer als je terug wilt naar een vraag.



Klik op het kruis rechtsboven om deze minitoets in te leveren en af te sluiten.