

## minitoets bij opdracht 4

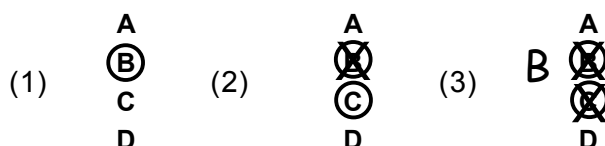
## variant a

Naam kandidaat \_\_\_\_\_

Kandidaatnummer \_\_\_\_\_

**Meerkeuzevragen**

- Omcirkel het goede antwoord (voorbeeld 1).
- Geef verbeteringen aan volgens voorbeeld 2 of 3.



- 1p 1 Een bloemenwinkel heeft vaste prijzen voor de corsages.  
Wat heeft invloed gehad bij het vaststellen van deze prijzen en wat niet?  
Kies de juiste vakjes.

	wel invloed	geen invloed
de prijs van bloemen		
de tijd die nodig is om een corsage te maken		
de klant die de corsage koopt		
de prijs van het hulpmateriaal		

- 1p 2 Er wordt btw geheven over artikelen die in een winkel worden verkocht.  
Wie betaalt de btw over producten en diensten?
- A de belastingdienst
  - B de consument
  - C de Kamer van Koophandel
  - D de ondernemer


1p 3 Hieronder staat een deel van een pakbon. In de kolom 'besteld' staan de hoeveelheden die werkelijk besteld zijn.

Pakbon								
299629	DHR A BOERSMA MOLENSTRAAT 12 9821 PG OLDEKERK							
artikel	besteld	geleverd	verpakking	inhoud	omschrijving	btw	prijs €	bedrag €
471586	1	1		2,5 KG	CALLEBAUT COUVERTURE CALLET'S PUUR Speciale aktieprijs FD 17	L	9,75	9,75
120703	1	1	3 FL	600 GR	DRIEHOEK SODA KRISTAL	H	3,45	3,45
2256	1	2		1,0 KG	GOUDEN BANIER TOSTI HAM	L	5,70	11,40
892046	2	2	1 FL	0,9 LT	CAMPINA KOKSGOUD Speciale aktieprijs S 17	L	2,75	5,50
952749	2	2	1 ST		COLE&MASON PEPERMOLEN INVERTA Speciale aktieprijs MFD 17	H	7,50	15,00
952760	2	2	1 ST		COLE&MASON COMBIMOLEN LUMINA Speciale aktieprijs MFD 17	H	7,50	15,00
952765	2	2	1 ST		COLE&MASON PEPERMOLEN CUBE Speciale aktieprijs MFD 17	H	7,50	15,00
325714	2	2		5 KG	APPEL GOUDREINET	L	3,95	7,90


In de tabel staan een aantal beweringen over deze pakbon.  
Zijn de beweringen juist of onjuist? Kies de juiste vakjes.

	juist	onjuist
Een pakbon is hetzelfde als een factuur.		
Het artikel "Driehoek Soda" wordt per drie flessen geleverd.		
Van het artikel "appel Goudreinet" is evenveel geleverd als besteld.		
Van het artikel "Gouden Banier tosti ham" is <b>niet</b> evenveel geleverd als besteld.		


- 1p 4 Om rugklachten te voorkomen is het belangrijk om een kruitwagen op een goede manier te gebruiken. Op de foto's staan kruitwagens met evenveel lading. Voor welke kruitwagens is de meeste lichamelijke inspanning nodig om hem te verplaatsen?



A



B



C

- 1p 5 Joop koopt een kruitwagen met een inhoud van 80 liter. De kruitwagen kost € 61,00 exclusief 19% btw. Hoeveel kost de kruitwagen inclusief btw?
- A € 42,00
  - B € 49,41
  - C € 72,59
  - D € 80,00

1p 6 Er zijn drie soorten verpakkingen:

primaire verpakking	De verpakking zit direct om het product heen, het product kan niet zonder worden verkocht.
secundaire verpakking	Dit is een verzamelverpakking die gebruikt wordt voor het opslaan van producten of het bijvullen van de schappen.
tertiaire verpakking	Dit is een verzendverpakking die gebruikt wordt voor het transport van producten.

Zijn de verpakkingen van de volgende producten primair, secundair of tertiair?  
Kies de juiste vakjes.

	primair	secundair	tertiair
frietbakje			
pallet waarop kratten met groenten staan			
kartonnen doos met daarin zakjes pinda's			

1p 7 In advertenties staat vaak dat men bij het kopen van een product garantie krijgt. Welke van de onderstaande behoefte(n) van de consument wil een adverteerder aanspreken door het noemen van garantie in de advertentie?

- A behoefte aan veiligheid en zekerheid
- B behoefte aan waardering en erkenning
- C behoefte aan zelfontplooiing
- D lichamelijke behoeften

1p 8 Van een glazen vaas is de inkoop prijs € 5,00. Om de verkoopprijs van de vaas te berekenen gebruik je de omrekenfactor. Dit is een getal waarmee de inkoop prijs van een artikel wordt vermenigvuldigd voor het berekenen van de verkoopprijs.

Wat is de verkoopprijs van deze vaas als de omrekenfactor 2,7 is?

- A € 7,70
- B € 10,00
- C € 13,50
- D € 15,40

- 1p **9** Edwin loopt stage bij een bedrijf waar een bestelling binnenkomt. Hij moet controleren of alles juist is geleverd.  
Wat heeft Edwin nodig om te controleren of de hele bestelling binnen is?  
**A** de orderbevestiging en de pakbon  
**B** de orderbevestiging en de factuur  
**C** de pakbon en de factuur
- 1p **10** Tijdens de adviesfase van een verkoopgesprek in een bloemenwinkel kunnen er verzorgingstips over snijbloemen gegeven worden.  
Waarom is het beter om snijbloemen in de winter niet in de buurt van een verwarming te plaatsen?  
**A** omdat de stelen dan sneller verhouten  
**B** omdat ze dan geen water meer opnemen  
**C** omdat ze dan last krijgen van schimmels  
**D** omdat ze dan sneller zijn uitgebloeid
- 1p **11** Voordat planten en bloemen de winkel bereiken zijn producenten actief.  
Welke marktontwikkelingen verhogen de winst voor de producenten van bloemen en planten en welke verhogen de winst niet? Kies de juiste vakjes.

	<b>verhoogt winst producent</b>	<b>verhoogt winst producent niet</b>
hogere meststofprijzen		
hogere prijzen voor de planten en bloemen op de veiling		
lagere prijzen voor gewasbeschermingsmiddelen		

- 1p 12 Teler Jan maakt een saldoberekening voor zijn zomertarweteelt.  
In de tabel staat de saldoberekening per hectare.

<b>saldoberekening zomertarweteelt</b>				
<b>opbrengsten / kosten</b>	<b>hoeveelheid</b>	<b>eenheid</b>	<b>prijs (€/eenheid)</b>	<b>bedrag (€)</b>
hoofdproduct	9000	kg	0,13	1170,00
bijproduct stro	4600	kg	0,05	230,00
EU-toeslag	1	ha	446,00	446,00
bruto-geldopbrengst				1846,00
<b>uitgangsmateriaal</b> zaaizaad	175	kg	0,45	78,75
<b>bemesting</b>				
kalkammonsalpeter	250	kg N	0,55	137,50
tripelsuperfosfaat	0	kg P <sub>2</sub> O <sub>5</sub>	0,52	0
kali 60 (chloorhoudend)	0	kg K <sub>2</sub> O	0,31	0
<b>onkruidbestrijding</b>				
isoproturon (500)	0,75	liter	6,80	5,10
diflufenican (62,5)				
isoproturon (500)	1,25	liter	26,40	32,00
fluroxypyr	1,00	liter	39,00	39,00
MCPA (500)	2,00	liter	4,85	9,70
metsulfuron-methyl (20%)	0,02	kg	960,00	19,20
<b>bestrijding ziekten</b>				
chloormequat (400)	0,25	liter	2,40	0,60
trinexapac-ethyl (250)	0,25	liter	54,00	13,50
azoxystrobine (250)	1,00	liter	69,00	69,00
epoxiconazool (125)				
kresoxim-methyl (125)	1,00	liter	73,00	73,00
lambda-cyhalothrin (50)	0,20	liter	64,00	12,80

Wat zijn de totale kosten voor bestrijding van ziekten per ha bij de teelt van zomertarwe?

€ .....

- 1p 13 Teler Jan maakt een saldoberekening voor zijn zomertarweteelt.  
In de tabel staat de saldoberekening per hectare.

saldoberekening zomertarweteelt				
opbrengsten / kosten	hoeveelheid	eenheid	prijs (€/eenheid)	bedrag (€)
hoofdproduct	9000	kg	0,13	1170,00
bijproduct stro	4600	kg	0,05	230,00
EU-toeslag	1	ha	446,00	446,00
bruto-geldopbrengst				1846,00
<b>uitgangsmateriaal</b> zaaizaad	175	kg	0,45	78,75
<b>bemesting</b>				
kalkammonsalpeter	250	kg N	0,55	137,50
tripelsuperfosfaat	0	kg P <sub>2</sub> O <sub>5</sub>	0,52	0
kali 60 (chloorhoudend)	0	kg K <sub>2</sub> O	0,31	0
<b>onkruidbestrijding</b>				
isoproturon (500)	0,75	liter	6,80	5,10
diflufenican (62,5)				
isoproturon (500)	1,25	liter	26,40	32,00
fluroxypyr	1,00	liter	39,00	39,00
MCPA (500)	2,00	liter	4,85	9,70
metsulfuron-methyl (20%)	0,02	kg	960,00	19,20
<b>bestrijding ziekten</b>				
chloormequat (400)	0,25	liter	2,40	0,60
trinexapac-ethyl (250)	0,25	liter	54,00	13,50
azoxystrobine (250)	1,00	liter	69,00	69,00
epoxiconazool (125)				
kresoxim-methyl (125)	1,00	liter	73,00	73,00
lambda-cyhalothrin (50)	0,20	liter	64,00	12,80

Teler Jan ontvangt een Europese landbouwsubsidie (= EU-toeslag) omdat hij tarwe teelt.

Wat is de bruto-geldopbrengst per ha als hij die EU-toeslag niet krijgt?

€ .....

- 1p 14 Harry gaat voor een klant houten palen plaatsen om een klimplant te steunen. De palen zijn drie meter lang en moeten voor een kwart de grond in.



Hoeveel cm moet Harry de palen in de grond zetten?

- A 50 cm
- B 75 cm
- C 100 cm
- D 125 cm