

doel 5 TEST-JE

1 ☐ **Zet een streep op de liniaal.**

Schrijf de letter erbij.

a bij 15 cm

b bij 25 cm

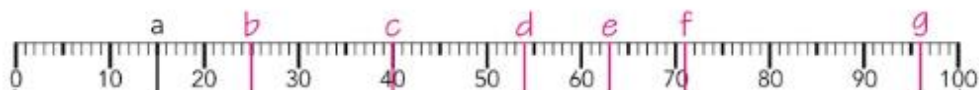
c bij 40 cm

d bij 54 cm

e bij 63 cm

f bij 71 cm

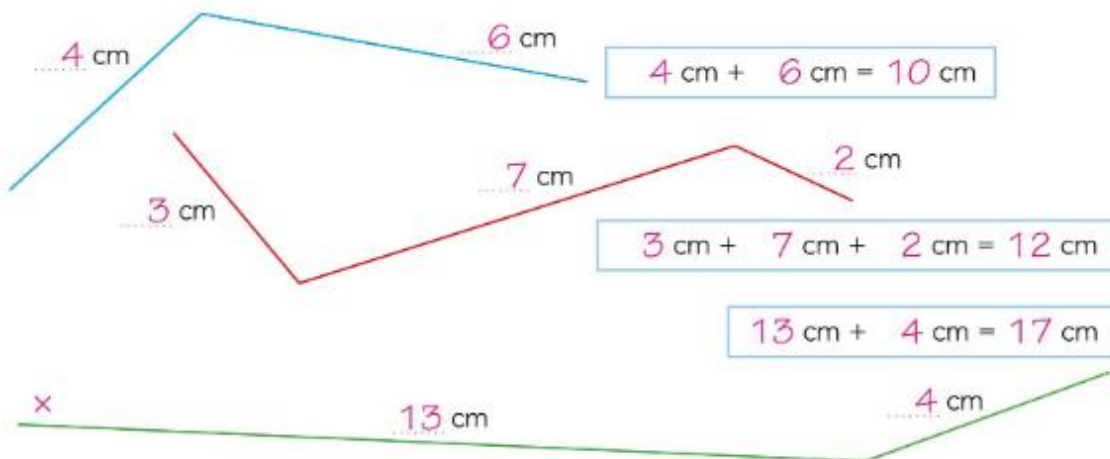
g bij 96 cm



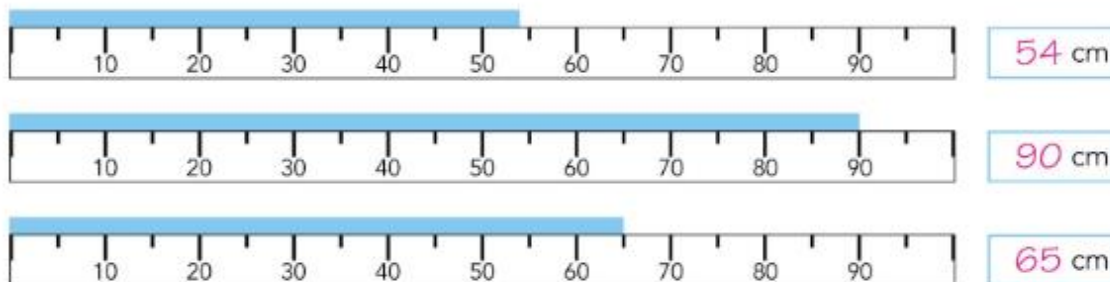
2 ☐ **Hoe lang?**

Meet met je liniaal.

Welke lijn is het langst? Zet er x bij.



3 ☐ **Hoe lang?**



kun je het nu?

