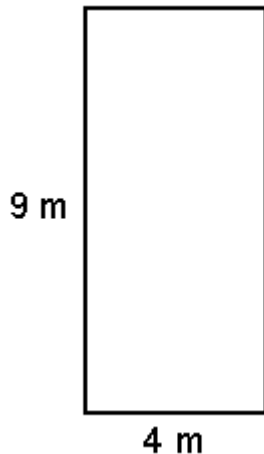


Voorbeeld 1:

Bereken de omtrek:



Antwoord:

$$\text{Omtrek} = 4 + 9 + 4 + 9$$

$$= 26 \text{ m}$$

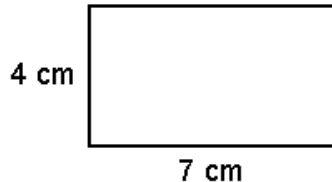
Omtrek is 26 m

Opdracht 1:

Bereken de omtrek van de volgende figuren.

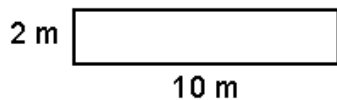
Schrijf je antwoord net zoals in het voorbeeld op. Berekening hoort er dus bij!

a)



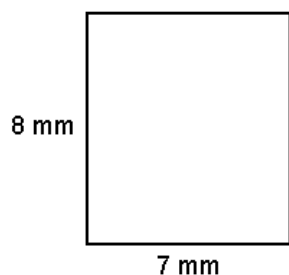
Antwoord a:

b)




Antwoord b:

c)



Antwoord c:

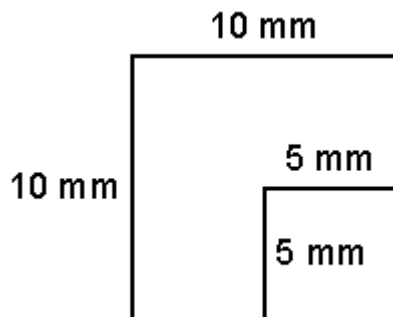


Opdracht 2:

Bereken de omtrek van de volgende figuren.

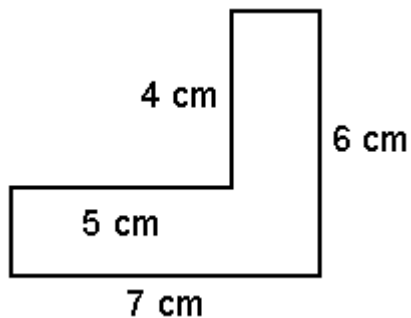
Let op! Niet alle zijden zijn gegeven. De maten moet je uit de tekening halen.

a)



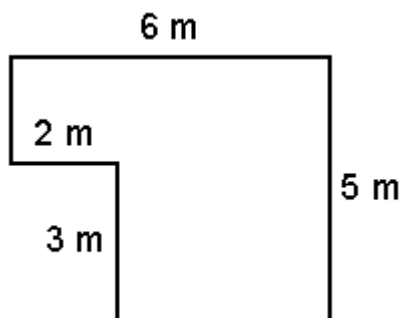
Antwoord a:

b)



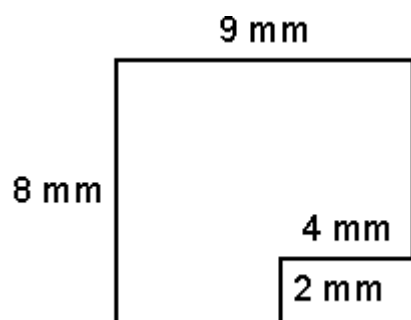
Antwoord b:

c)



Antwoord c:

d)



Antwoord d:
